

به نام خدای دوست داشتنی

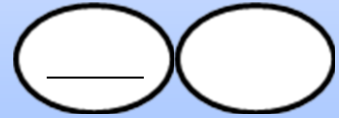
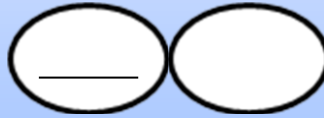
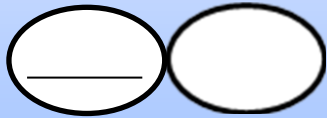


ارزشیابی ریاضی نوبت اول

نام دانشمند کوچکم :

نازنینم سمت چپ ستاره یک تکه ابر بکش.



ریاضیدان من عدد هر دسته را با عدد وچوب خط نشان بده.



کودک فوبم بین این اعداد علامت مناسب  $>$   $=$   $<$  بگذار.

۲  ۷

۸  ۸

۵  ۳


۶  ۹

دلبندم برای این شکل جمع مناسب بنویس.

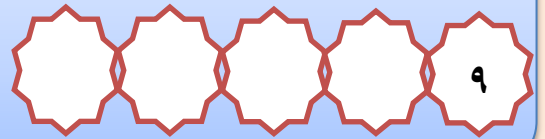
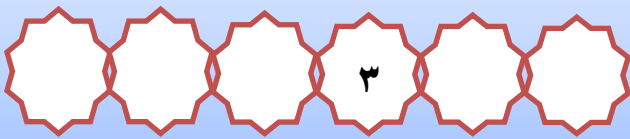


+  =

گل من نیمه ی پایین را مثل نیمه ی بالا رنگ بزن.



عزیزم ۳ قبل و بعد این اعداد را بنویس.



نازنین برای هر عدد از یک رنگ استفاده کن و جواب جمع را پیدا کن.





$$3 + 4 + 2 =$$

مهربانم جدول شگفت انگیز را با اعداد مناسب کامل کن.

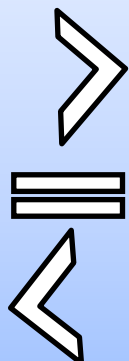




۴	۱	۵	۲	۶	۷	۹	۸	۳
۲	۹	۶	۵	۸	۳	۷	۴	۱
۷	۳			۹	۴		۵	۶
۱	۲			۴	۶	۵	۳	۷
۵	۸	۳	۷	۲	۹	۱	۶	۴
۶	۷	۴	۳	۱			۹	۲
۸	۵	۷	۴	۳			۲	۹
۳	۶	۱	۹	۵	۲	۴	۷	۸
۹	۴	۲	۶	۷	۸	۳	۱	۵

فرزندم بلندی پتر اندازه ی پند مراد است.



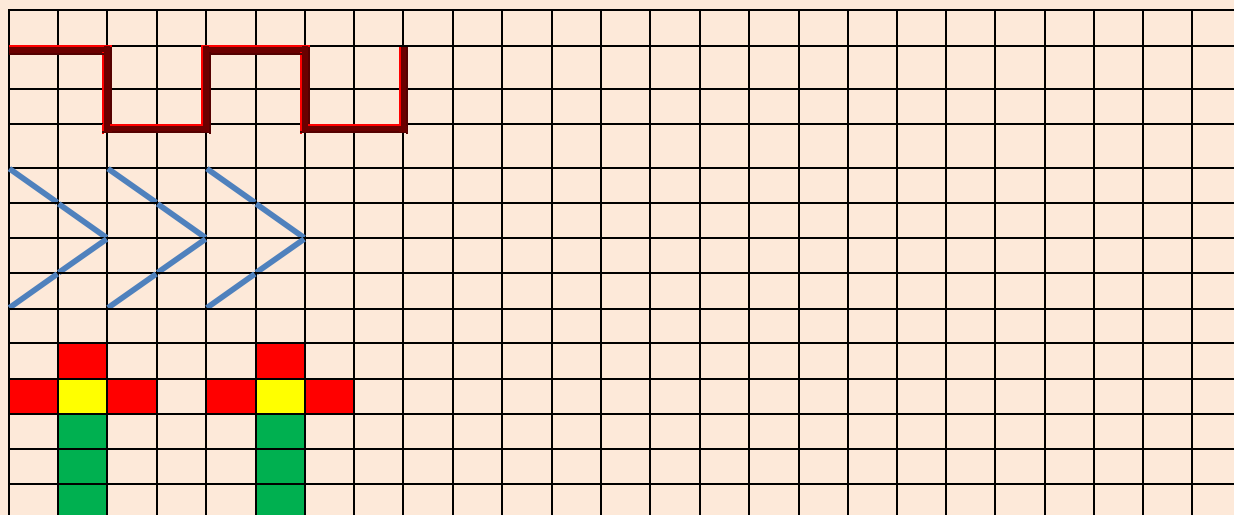
پاسخ هر قسمت را با قسمت دیگر مقایسه کن و علامت مناسب را انتخاب کن.



..... + ..... = .....

..... - ..... = .....

فرشته ی زمینی الگو را ادامه بده.



نظر من درباره ی این آزمون شما :



نیاز به تلاش



قابل قبول



فوب



فیلی فوب