

آزمون مداد کاغذی ریاضی - اردیبهشت ۹۳

اعداد زیر را ادامه بده.

۲۵-۲۰-۱۵-۱۰-۵-۰-.....-.....-.....-.....-.....-.....

۱

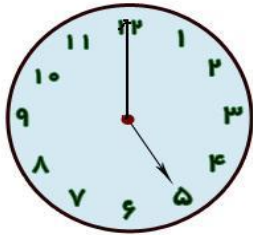
جواب جمع های زیر را با رسم یک شکل ساده نشان بده .

$20 + 30 = \dots\dots\dots$

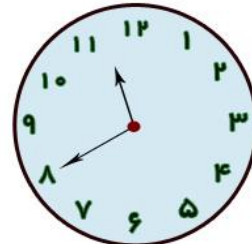
$4 + 2 + 3 = \dots\dots\dots$

۲

کامل کن.



ساعت است.



ساعت بین و است.

۳

جواب جمع و تفریق زیر را روی محور نشان بده .

$6 + 3 + 2 = \dots\dots\dots$

$5 - 9 = \dots\dots\dots$

۴

الگوی زیر را ادامه بده .

ده - بیست - سی - چهل --.....-.....-.....-.....-.....

۵

جدول زیر را کامل کن.


چهارده	سی و یک	نود	هشتاد و پنج
.....

۶

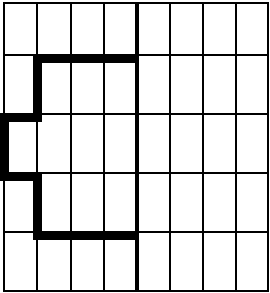
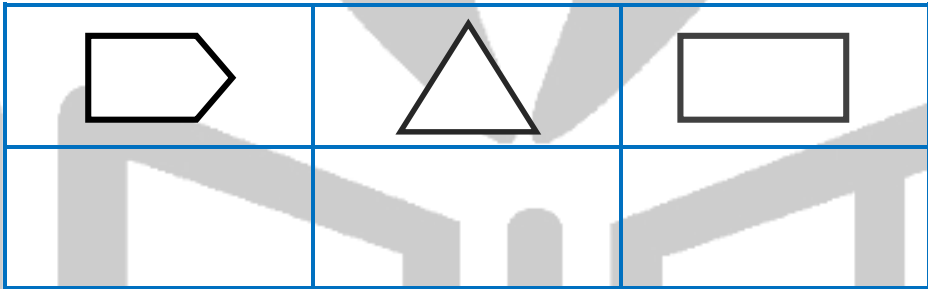
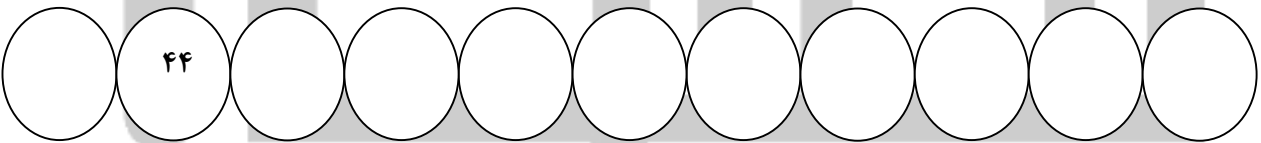
شکل زیر را به دسته های ده تایی تقسیم و عدد مناسب آن را در جدول قرار بده .

به عدد :
به حروف :

ده تایی	یکی
.....



۷

	<p>شکل زیر را به صورت قرینه تمام کن.</p> 	۸
	<p>علامت $< = >$ را در جای مناسب قرار بده .</p> <p>۶ \square ۲+۴ ۱-۷ \square ۱+۷ ۹ \square ۱۷</p>	۹
	<p>مساله ی زیر را با رسم یک شکل ساده یا محور حل کن. آرمان ۱۲ گردو داشت. سه گردو را به برادرش علی داد. حالا آرمان چند گردو دارد؟.</p>	۱۰
	<p>در هر شکل تعداد ضلع ها را با چوب خط نشان بده.</p> 	۱۱
	<p>اعداد زیر را ادامه بده.</p> 	۱۲