

نام درس: مطالعات اجتماعی

تاریخ امتحان: ۹۶/۳/۱۶

ساعت امتحان: ۸ صبح

مدت امتحان: ۷۵ دقیقه

اداره کل آموزش و پرورش شهر تهران

مدیریت منطقه ۱۱

**سرپرست**

دبیرستان دوره اول دخترانه

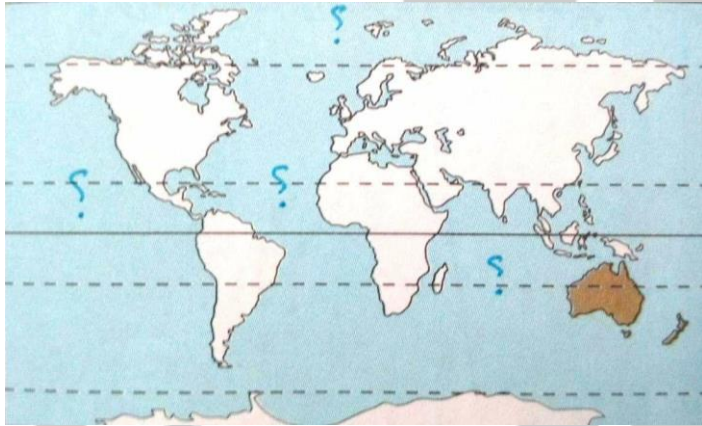
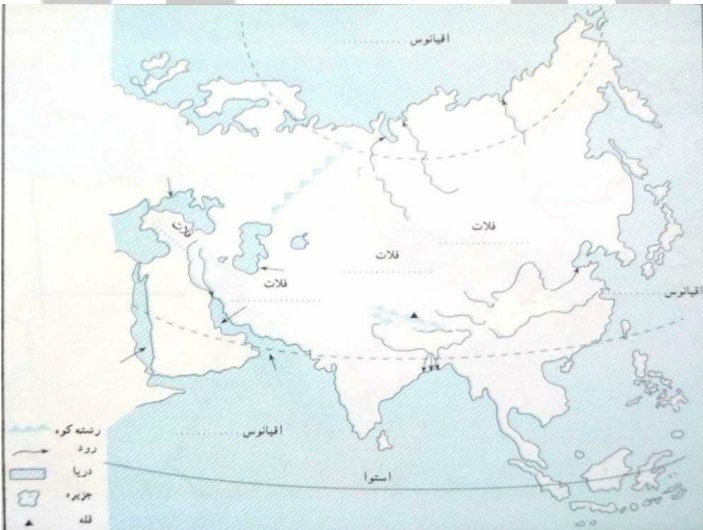
امتحانات ترم دوم سال تحصیلی: ۹۶-۹۵


نام و نام خانوادگی:

پایه و رشته: هشتم

شماره داوطلب:

محل مهر و امضاء مدیر:	نمره به عدد:	نمره به حروف:	نمره به عدد:	نمره به حروف:
	نام دبیر:	نام دبیر:	تاریخ و امضاء:	تاریخ و امضاء:

۱	<p>نام اقیانوس‌های مشخص شده در تصویر را بر روی تصویر بنویسید.</p> 	۱
۰,۵	<p>گزینه نادرست را انتخاب کنید: الف: فلات تبت از جمله فلات‌های قاره آسیا است. ب: آسیا وسیع‌ترین و پرجمعیت‌ترین قاره کره زمین است. ج: قاره آسیا از طریق کانال سوئز از قاره آمریکا جدا می‌شود. د: مجمع‌الجزایر آتشفشانی از جمله ناهمواری‌های جوان آسیا است.</p>	۲
۱,۲۵	<p>الف: در تصویر زیر، محدوده آسیای مرطوب و آسیای خشک را نشان دهید. ب: همچنین بنویسید آسیای مرطوب در معرض چه بادهایی است؟</p> 	۳

۰,۷۵	<p>الف: در تصویری نحوه به وجود آمدن دلتاها را بکشید. ب: همچنین یکی از جلگه‌های معروف آسیا را نام ببرید.</p>	۴
۰,۵	<p>کانون ظهور ادیان توحیدی در کدام منطقه آسیاست؟</p>	۵
۰,۵	<p>مهم‌ترین کشور صنعتی آسیا ..... است که به همراه روسیه عضو کشورهای گروه هشت هستند.</p>	۶
۰,۵	<p>«ببرهای اقتصادی آسیا» در سال‌های اخیر، از چه طریقی توانسته‌اند وضعیت اقتصادی خود را تغییر دهند؟</p>	۷
۱	<p>الف: در نقشه زیر مثلی را بکشید که منطقه جنوب غرب آسیا در آن قرار گرفته باشد. ب: نام مناطقی که در سه رأس مثلث قرار دارد را بنویسید.</p> 	۸

<p>۰,۵</p>	<p>با ذکر دو دلیل توضیح دهید که چرا منطقه جنوب غربی آسیا منطقه‌ای استراتژیک (مهم و تاثیرگذار) است؟</p>	<p>۹</p>
<p>۰,۵</p>	<p>کشورهای جنوب غربی آسیا به لحاظ اقتصادی چه شرایطی دارد؟</p>	<p>۱۰</p>
<p>۱,۲۵</p>	<p>سؤال‌های خواسته شده را بر روی نقشه پاسخ دهید و در گزینه «د» جای خالی را پر کنید.                  الف: دو رشته کوه اروپای جوان را بنویسید.                  ب: منطقه‌ای از اروپا که آب و هوای مدیترانه‌ای دارد را رنگ کنید.                  ج: نام طولانی‌ترین رود اروپا را بر روی نقشه بنویسید.                  د: جای خالی را پر کنید: مسلمانان اروپا بیشتر در ..... زندگی می‌کنند.</p>	<p>۱۱</p>

۰,۵	چرا با وجود آنکه قاره آفریقا دومین قاره جهان از نظر وسعت است اما جمعیت کمی دارد؟ دو عامل را ذکر کنید.	۱۲
۱	<p>جای خالی را پر کنید. الف: طولانی‌ترین رود جهان است؟</p> <p>ب: قاره آفریقا از نظر بارش به دو قسمت ..... و ..... تقسیم می‌شود.</p> <p>ج: دین بیشتر مردم شمال آفریقا ..... است.</p>	۱۳
۱	به طور کلی عوامل توسعه نیافتگی آفریقا به چند دسته تقسیم می‌شود؟ نام برده و به اختصار توضیح دهید.	۱۴
۱	مردم آمریکا از چه نژادهایی تشکیل شده‌اند؟ ریشه‌های آنها را توضیح دهید.	۱۵
۱	اقتصاد آمریکای شمالی و آمریکای لاتین را با یکدیگر مقایسه کنید.	۱۶
۰,۵	<p>کدام گزینه نادرست است؟ الف: قاره استرالیا در نیمکره شمالی قرار دارد.</p> <p>ب: استرالیا و نیوزیلند جزء کشورهای پیشرفته صنعتی هستند.</p> <p>ج: رشته کوه‌های آلپ جنوبی در کشور نیوزیلند واقع است.</p> <p>د: استرالیا با وجود وسعت زیاد جمعیت بسیار کمی دارد.</p>	۱۷

<p>۰,۷۵</p>	<p>مشخص کنید هر یک از توصیفات زیر مربوط به کدام سلسله ترک تبار است؟ الف: سلطان محمود در لشکرکشی‌های خود مناطقی از هندوستان را تصرف کرد و معبد سومنات را خراب کرد. (.....)</p> <p>ب: پایه‌های حکومتشان محکم نبود، زیرا از یک سو خلیفه عباسی فرمانروایی آنها را به رسمیت نمی‌شناخت و از سوی دیگر، تسلطی بر فرمانروایان محلی نداشتند و نهایتاً حکومت آنها با حمله مغول از هم پاشید. (.....)</p> <p>ج: آلب ارسلان در نبرد ملازگرد توانست رومیان را شکست سختی دهد و امپراتور روم شرقی را به اسارت بگیرد. (.....)</p>	<p>۱۸</p>
<p>۰,۵</p>	<p>الف: مدارس نظامیه توسط چه کسی بنیان گذاشته شد؟</p> <p>ب: کیفیت و اهمیت این مدارس نشان‌دهنده می‌دهد ایران در آن زمان از نظر اقتصادی، فرهنگی و اجتماعی چه جایگاهی داشته است؟</p>	<p>۱۹</p>
<p>۰,۵</p>	<p>چرا سلسله سلجوقیان از اهمیت قابل توجهی در طول تاریخ ما برخوردار است؟ (دو دلیل ذکر کنید)</p>	<p>۲۰</p>
<p>۰,۵</p>	<p>هولاکو خان، نوه چنگیز خان مغول دو فتح مهم در ابتدای حکومتش انجام داد، آن دو را نام ببرید.</p>	<p>۲۱</p>
<p>۰,۵</p>	<p>الف: سرداران از کدام منطقه قیام کردند؟</p> <p>ب: علت قیام آنها چه بود؟</p>	<p>۲۲</p>
<p>۰,۵</p>	<p>وزیران ایرانی دوران مغول افرادی زیرک و هوشیار بودند و با نزدیک شدن به حاکمان مغول توانستند جلوی بخشی از ویرانی کشور را بگیرند. دو مورد از اقدامات این وزیران را بنویسید.</p>	<p>۲۳</p>

۰,۵	<p>گزینه نادرست را انتخاب کنید:</p> <p>الف: مغولان اقوام بیابانگردی بودند که به سبب افزایش جمعیت و نبود مراتع، کشورهای همسایه خود را غارت می کردند.</p> <p>ب: فرار سلطان محمد خوارزمشاه در مقابل حمله مغول باعث ضعف روحیه سپاه و مردم شد.</p> <p>ج: در زمان تیموریان هنر و صنعت در کشورمان رونق گرفت.</p> <p>د: غزنویان توانستند بخش‌های وسیعی از آسیای صغیر را تصرف کنند.</p>	۲۴
۰,۵	<p>الف: مشارکت کردن برای رفع نیازهای مالی فقرا</p> <p>ب: کوشش برای ایجاد صلح</p> <p>ج: مطالعه کتب مذهبی</p> <p>د: هدیه دادن و خوشحال کردن دیگران</p>	۲۵
۰,۵	<p>آیا ما تنها از طریق مالمان می‌توانیم به دیگران یاری برسانیم؟ مثالی ذکر کنید که این یاری‌رسانی از شیوه‌ای به جز خرج مال اتفاق افتاده باشد.</p>	۲۶
۰,۵	<p>حق رأی در شرکت‌های تعاونی و خصوصی را با یکدیگر مقایسه کنید.</p>	۲۷
۱	<p>در مثال زیر بگویید، فرستنده، گیرنده، پیام و رسانه کدام است؟ (توجه: ممکن است برای هر گزینه چند پاسخ موجود باشد، شما به یک مورد اشاره کنید).</p> <p>«مهسا رو به روی تلویزیون نشسته است و اخبار انتخابات ریاست جمهوری را گوش می‌دهد. گوینده خبر اعلام می‌کند که یکی از کاندیدای ریاست جمهوری انصراف داده است. مهسا با تعجب و هیجان، خبر را در خانه فریاد می‌زند.»</p> <p>فرستنده:..... گیرنده:.....</p> <p>پیام:..... رسانه:.....</p>	۲۸
۰,۵	<p>وسایل ارتباط جمعی تأثیرات مثبت و تأثیرات منفی دارند، دو مورد از تأثیرات منفی آنها را ذکر کنید.</p>	۲۹

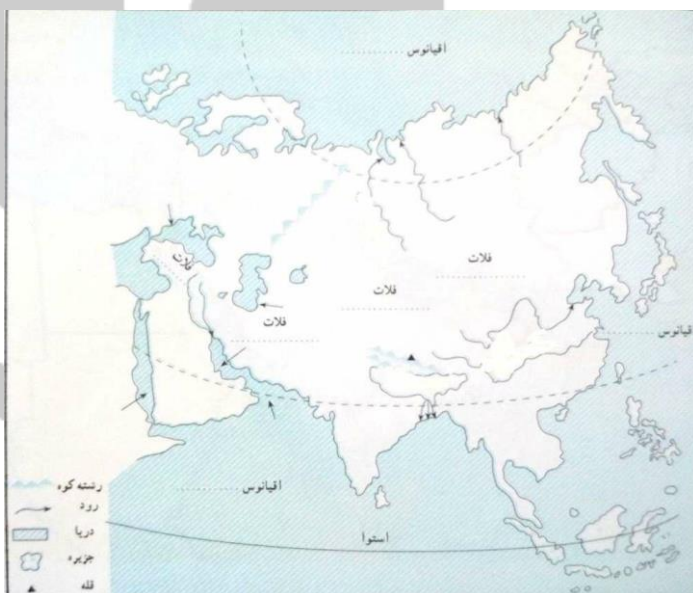


-۱



۲- گزینه ج

۳- آسیای مرطوب در معرض بادهای موسمی است.



۴- الف:.....

ب: جلگه سیبری، جلگه چین، جلگه گنگ و سند

۵- منطقه جنوب غربی آسیا که ادیان اسلام، مسیحیت و یهود در آنجا ظهور کرده است.

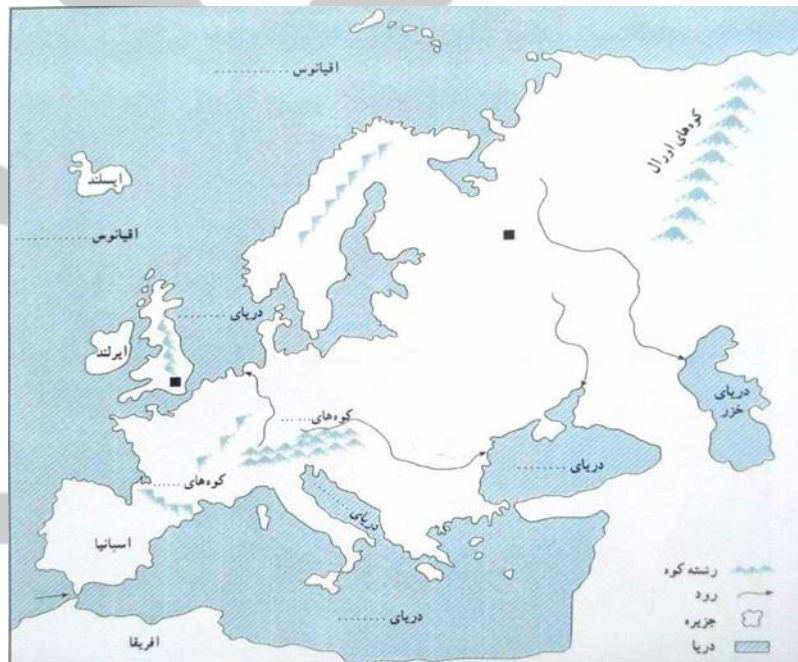
۶- ژاپن

۷- از طریق صادرات به خصوص در تولید و صدور ابزار الکترونیکی و رایانه‌ای، لوازم خانه و اتومبیل.

-۸



- ۹- ۱- این منطقه در کانون اتصال سه قاره آسیا، اروپا و آفریقا قرار دارد. ۲- دسترسی به آبهای آزاد ۳- انبار مهم انرژی در جهان است. ۴- کانون جهان اسلام است و بسیاری از کشورهای مسلمان در این منطقه گرد هم آمده‌اند.
- ۱۰- متأسفانه بیشتر آنها از نظر اقتصادی وابسته به نفت هستند و ماشین‌آلات، مواد غذایی، دارو و انواع کالاهای مصرفی را از دیگر کشورهای پیشرفته صادر می‌کنند.
- ۱۱- شبه جزیره بالکان



- ۱۲- بخش‌های وسیعی که پوشیده از بیابان بزرگ آفریقا و جنگل‌های انبوه است امکان زندگی ندارد و خالی از جمعیت است. عدم رعایت بهداشت، شیوع بیماری مختلف، خشکسالی و قحطی، جنگ.
- ۱۳- الف: نیل          ب: مرطوب و خشک          ج: اسلام
- ۱۴- به دو دسته داخلی و خارجی تقسیم می‌شود.



- داخلی: شرایط سخت محیطی برای زندگی، شیوع بیماری، بی‌سوادی، آگاهی کم مردم و جنگ‌های داخلی و حکومت‌های وابسته و استبدادی
- خارجی: استعمار کشورهای اروپایی و غارت منابع آنها.
- ۱۵- بومیان آمریکایی: نژادی که از ابتدا در این قاره زندگی می‌کردند.
- سیاه‌پوستان: که فرزندان و نوادگان آفریقایی‌اند که توسط اروپایی‌ها برای کار به این قاره آورده شدند.
- سفیدپوستان: اروپایی‌هایی که قاره آمریکا را کشف کردند.
- دو رگه‌ها: نژادهایی که از ترکیب دو نژاد به وجود آمدند.
- ۱۶- آمریکای شمالی: اقتصاد پیشرفته، کشاورزی صنعتی و تجاری دارد
- آمریکای لاتین: اوضاع اقتصادی خوبی ندارد و صادرکننده مواد اولیه صنعتی و محصولات کشاورزی است.
- ۱۷- الف
- ۱۸- الف: سلسله غزنویان      ب: خوارزمشاهیان      ج: سلجوقیان
- ۱۹- الف: خواجه نظام‌الملک
- ب: نشان می‌دهد جامعه در وضعیت خوبی قرار داشته است و به لحاظ اقتصادی، فرهنگی و اجتماعی کشورمان دارای پیشرفت و توسعه بوده است.
- ۲۰- داشتن وزیران با تدبیر، داشتن قلمرو پر قدرت، رونق شهرسازی و معماری، تأسیس مدارس نظامیه، تألیف کتابهای بی‌شمار و ماندگار.
- ۲۱- شکست اسماعیلیان؛ سپس تسخیر بغداد و کشتن خلیفه و از بین بردن خلافت عباسی.
- ۲۲- روستای باشتین و علت قیام آنها اعتراض در مقابل ظلمی بود که مأموران مغول بر آنها می‌کردند.
- ۲۳- آنها پادشاهان را تشویق به عمران و آبادانی می‌کردند، مانند: تأسیس رصدخانه مراغه، ساخت بنای ربع رشیدی، نوشتن جامع‌التواریخ رشیدی، ساخت گنبد کاووسیه و ...
- ۲۴- د
- ۲۵- ج
- ۲۶- خیر به طور مثال در اختیار گذاشتن دانش یا استفاده از توان بدنی نمونه‌هایی از یاری‌رساندن غیر مالی است.
- ۲۷- در شرکت‌های تعاونی فرد با هر میزان سرمایه تنها یک حق رأی دارد، اما در شرکت‌های خصوصی قدرت تصمیم‌گیری فرد (میزان رأی) وابسته به میزان سرمایه اوست، هر چه بیشتر سرمایه داشته باشد، حق رأی بیشتری دارد.
- ۲۸- فرستنده: گوینده خبر/ مهسا      گیرنده: مهسا/ خانواده مهسا
- پیام: انصراف کاندیدای ریاست جمهوری      رسانه: تلوزیون
- ۲۹- ترویج خشونت، تشویق مصرف‌گرایی، کم شدن تماس رو در رو