

گام به گام

پایه

اول ابتدایی



الف - دومین شکل از سمت راست را رنگ بزن



ب- در دست چپ پسر یک بادکنک بکش

۱

عدد هر دسته را بنویس و یا به تعداد عدد شکل بکش


۲

جدول شگفت انگیز را کامل کن

۳	۲			۴	۱
۵	۴			۶	۳
۴	۶	۲	۳	۱	۵
۱	۵	۳	۶	۲	
		۵	۴	۳	۲
۲	۳	۴	۱	۵	

۳

برای شکل زیر یک تفریق بنویس و برای تفریق شکل بکش و حاصل را پیدا کن

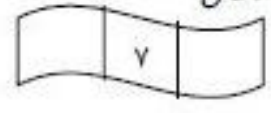
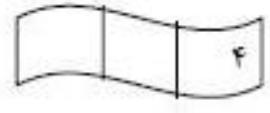


$9 - 5 = \dots\dots\dots$


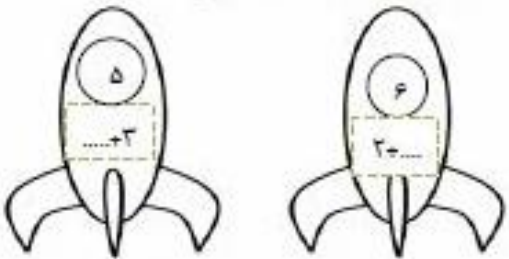




$\dots\dots\dots - \dots\dots\dots = \dots\dots\dots$

۴


اعداد قبل و بعد عدد نوشته شده را بنویس



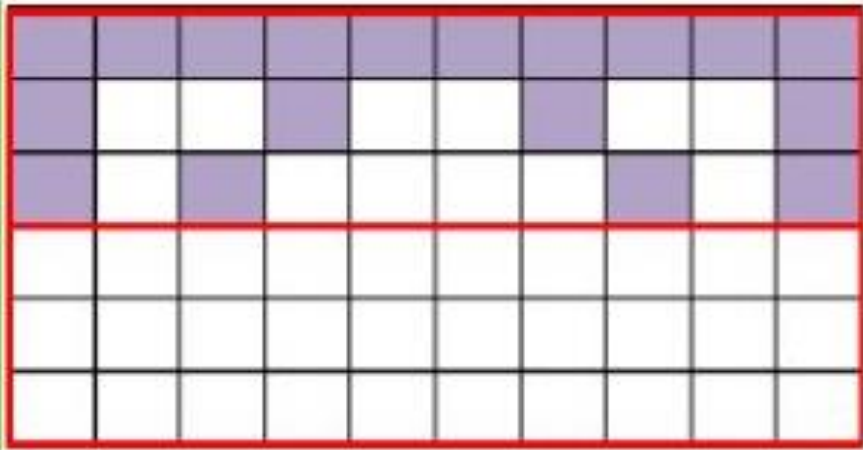
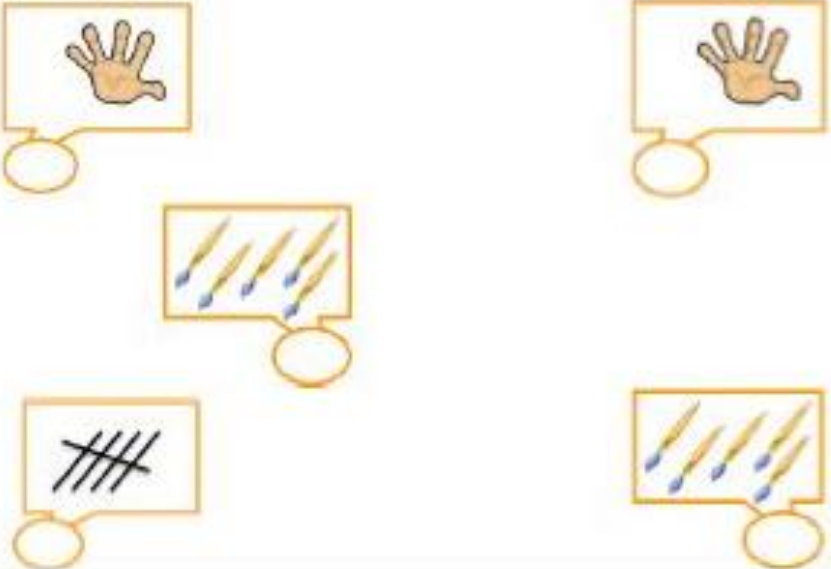
۵

	<p>در جاهای خالی عدد مناسب بنویس</p> 	۶
	<p>هر جمع را با خط کش به حاصلش وصل کن</p> 	۷
<p>الگوها را ادامه بده و شکل تکرار شده را سمت راست بکش</p> 		۸
<p>بین دو عدد علامت < = > قرار بده یا در طرف دیگر علامت ، عدد قرار بده</p> <p>۷ ۸ ۹ ۵ = ۳ ۶ ></p>		۹
<p>با توجه به خط وسط نیمه ی دیگر شکل را کامل کن</p> 		۱۰

هیوا تخصصی ترین سایت مشاوره کشور

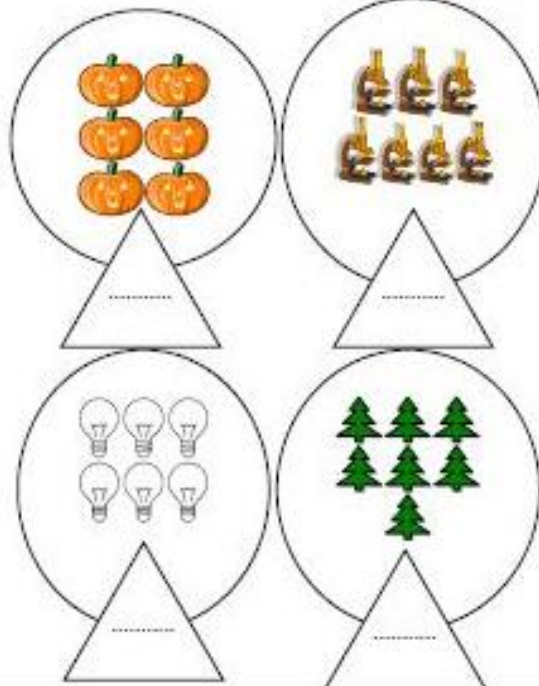
نام و نام خانوادگی																																	
ردیف	سوالات																																
	جور گردنی																																
۱	<p>نیمه ی دیگر شکل را پیدا کن و به هم وصل کن.</p> 																																
	کامل گردنی																																
۲	<p>جدول شگفت انگیز را کامل کن.</p> <table border="1" data-bbox="564 1102 995 1697"> <tr> <td>۲</td> <td></td> <td>۱</td> <td>۴</td> </tr> <tr> <td>۱</td> <td>۴</td> <td></td> <td>۳</td> </tr> <tr> <td>۳</td> <td>۱</td> <td>۴</td> <td></td> </tr> <tr> <td></td> <td>۲</td> <td></td> <td></td> </tr> <tr> <td>۴</td> <td></td> <td>۱</td> <td></td> </tr> <tr> <td></td> <td>۳</td> <td>۲</td> <td>۴</td> </tr> <tr> <td>۳</td> <td>۱</td> <td>۴</td> <td></td> </tr> <tr> <td></td> <td></td> <td></td> <td></td> </tr> </table>	۲		۱	۴	۱	۴		۳	۳	۱	۴			۲			۴		۱			۳	۲	۴	۳	۱	۴					
۲		۱	۴																														
۱	۴		۳																														
۳	۱	۴																															
	۲																																
۴		۱																															
	۳	۲	۴																														
۳	۱	۴																															

هیوا تخصصی ترین سایت مشاوره کشور











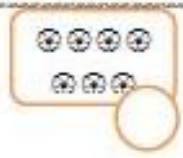
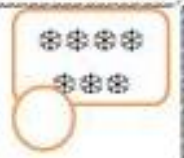


نام خانوادگی: _____ شماره صفحه: _____
۳ شکل را طوری کامل کن که دو نیمه ی آن مثل هم شود.

تشریحی
۴ شاگرد زرنگ، چند شکل بکش و گوشه های آنها را سبز و میله ها را آبی کن.
۵ عدد هر دسته را بنویس.


نام و نام خانوادگی

۶ عدد مربوط به هر دسته را بنویس و از خانه ها رنگ بزن.

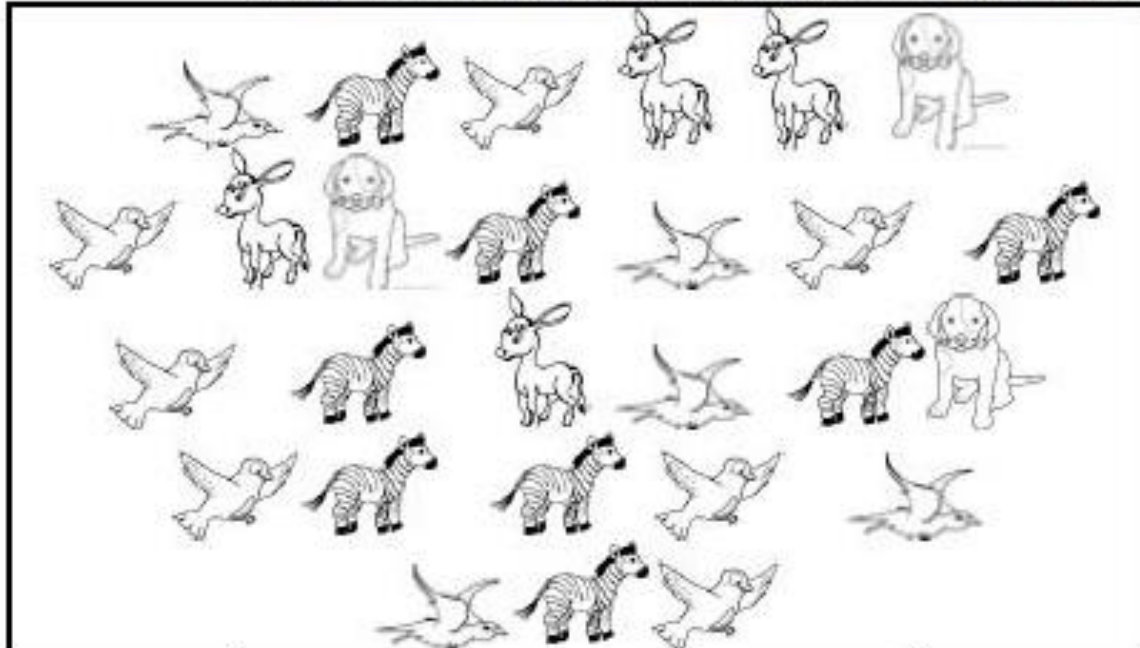







هیوا تخصصی ترین سایت مشاوره کشور

شماره صفحه:	نام خانوادگی:	نام:	
<p>۷ در سمت راست آن قدر شکل بکش که تعداد آن با دسته ی سمت چپ برابر شود.</p>			
			
			
			
<p>۸ عدد هر دسته را بنویس. اگر تعداد شکل های دو طرف برابر است، علامت = بگذار.</p>			
			
			

نام و نام خانوادگی

عزیزم به شکل ها یا دقت نگاه کن و در جدول پایین به تعداد هر شکل چوب خط بکش و عدد مربوط به آن را بنویس.













				
.....

هنگام تخصص، تین سابت مشاوه کشه

نام خانوادگی: _____ شماره صفحه: _____

عدد مربوط به هر دسته را نوشته و حاصل جمع را بنویس.

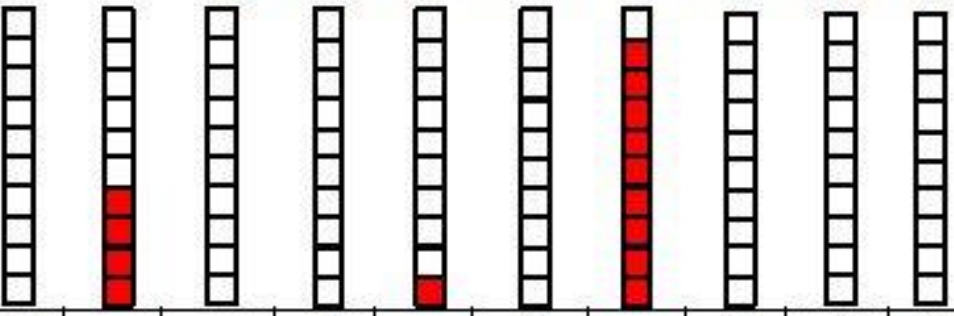

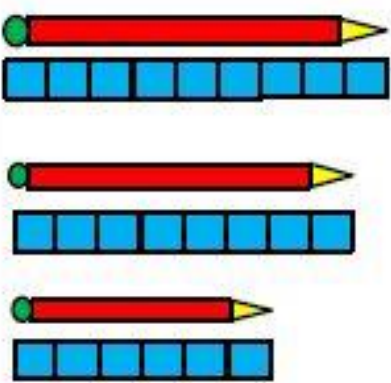

		+	=
		+	=
		+	=
		+	=
		+	=

راهنمای توصیف عملکرد:









گروه	تأخیری	کاملاً	نتیجه
			سوالات را درک کرده است.

باز خورد معلم:

هیوا تخصصی ترین سایت مشاوره کشور

ردیف								
۱	<p>دانش آموز عزیز به تعداد عدد نوشته شده مربع رنگ کن و عددهای ستون های رنگ شده را بنویس .</p>  <table border="1" data-bbox="268 560 1284 622"> <tr> <td>۶</td> <td>۰</td> <td>۸</td> <td>۲</td> <td>۵</td> <td>۷</td> <td>۳</td> </tr> </table>	۶	۰	۸	۲	۵	۷	۳
۶	۰	۸	۲	۵	۷	۳		
۲	<p>الگوهای زیر را ادامه دهید .</p> 							
۳	<p>اندازه مبادها چند چینه است در مقابلش بنویس .</p>  <table border="1" data-bbox="782 1131 965 1489"> <tr> <td></td> </tr> <tr> <td></td> </tr> <tr> <td></td> </tr> </table>							
۴	<p>با استفاده از شابلون الگوی رسم شده را ادامه بده .</p> 							

۵ عدد هر دسته را بنویس و از علامت کمتر - بیشتر (>) یا مساوی (=) به طور صحیح استفاده کن .

			
<input type="text"/>	<input type="text"/>	<input type="text"/>	<input type="text"/>
			
<input type="text"/>	<input type="text"/>	<input type="text"/>	<input type="text"/>

۶ مربع های شگفت انگیز زیر را کامل کنید .

۳	۱	۲	۸	۹		۴	۷	۶
۵	۶	۹	۱		۷		۸	۲
	۸	۷	۲	۶	۳	۵	۱	۹
۹	۵		۷	۳	۶	۲	۴	
۷	۲	۸		۱	۴	۶		۳
۶	۳	۴	۹	۸	۲		۵	۷
	۴	۵	۶	۷	۹	۸	۳	۱
۱	۷	۶	۳	۵		۹	۲	۴
۸		۳	۴	۲	۱	۷	۶	۵