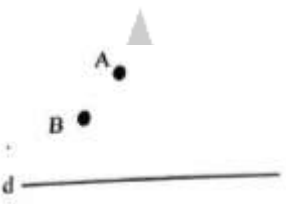
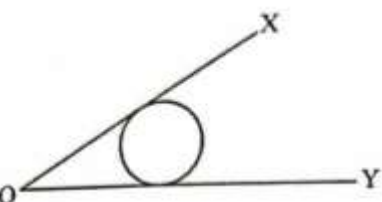
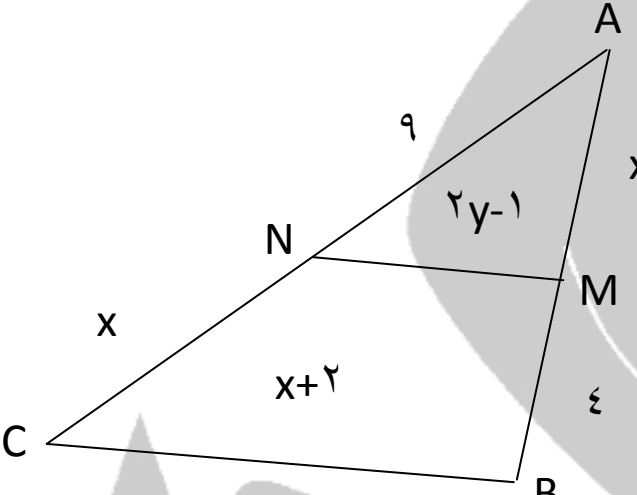
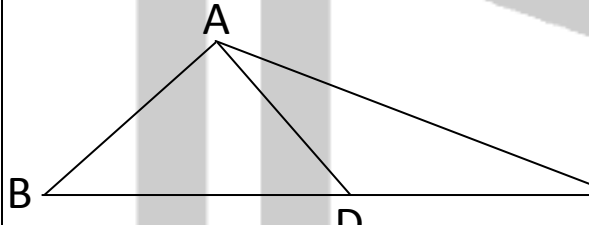
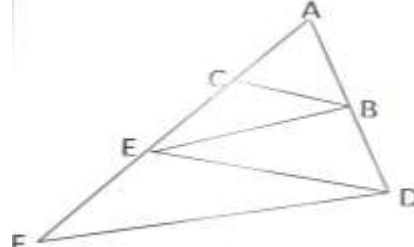


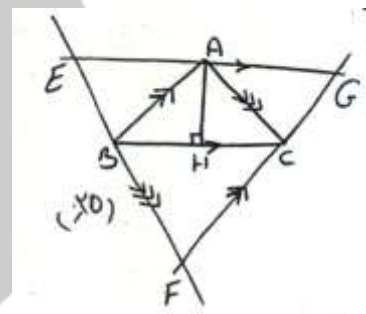
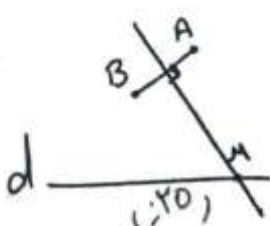
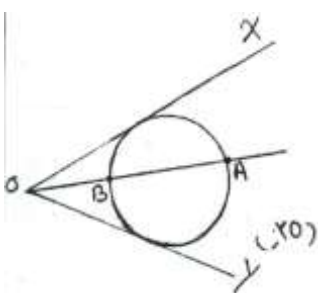
# هیاوا! تخصصی ترین سایت مشاوره کشور



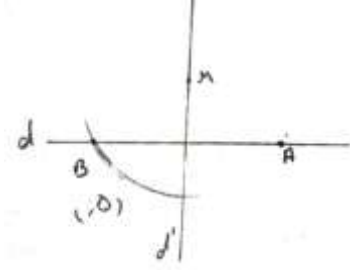
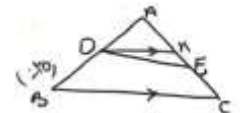
نام و نام خانوادگی: مقطع و رشته: دهم ریاضی شماره داوطلب: تعداد صفحه سؤال: ۲ صفحه	نام درس: هندسه نام دبیر: لیلا حیدرزاده تاریخ امتحان: ۱۳/۱۰/۱۳۹۶ ساعت امتحان: ۸ صبح / عصر مدت امتحان: ۲۰ دقیقه	www.Heyvagroup.com اداره ی کل آموزش و پرورش شهر تهران اداره ی آموزش و پرورش شهر تهران منطقه ۶ تهران دبیرستان غیردولتی دخترانه 
---	---	---

ردیف	نمره	سؤالات «	نمره
۱	۱,۲۵	جاهای خالی را با کلمات مناسب کامل کنید: الف) اگر نقطه ای از دو سر پاره خط به یک فاصله باشد، روی ..... آن قرار دارد. ب) اگر در مثلثی اندازه دو زاویه $31^\circ$ و $49^\circ$ باشد، نقطه همراستی عمودمنصف های اضلاع آن ..... مثلث است. ج) در مثلث PQR، زاویه خارجی P برابر $75^\circ$ درجه و زاویه خارجی Q برابر $120^\circ$ درجه است. نقطه همراستی ارتفاع ها در ..... مثلث قرار دارد. د) میانگین هندسی $2\sqrt{2}$ و $3\sqrt{2}$ عددهای ..... و ..... است.	۱
۲	۲	با استفاده از استدلال استنتاجی ثابت کنید سه ارتفاع هر مثلث همراستند.	۲
۳	۱,۵	الف) در شکل زیر، روی خط d نقطه یا نقاطی را تعیین کنید که از نقاط A و B به یک فاصله باشد.  ب) در شکل زیر، نقطه یا نقاطی را روی دایره تعیین کنید که از اضلاع زاویه به یک فاصله باشد. 	۳
۴	۱,۲۵	در مثلث ABC، $\widehat{A} > \widehat{C}$ و $AB = 3X - 15$ و $BC = 2X + 20$ است. حدود x را تعیین کنید.	۴
۵	۱,۵	برای رد حدس کلی زیر مثال نقض بزنید. الف) هر متوازی الاضلاعی، مستطیل است. ب) اگر دو زاویه مکمل هم باشند، نگاه یکی حاده و دیگری منفرجه است.	۵
۶	۲	روش رسم خط عمود بر یک خط از نقطه ای خارج آن را توضیح دهید.	۶

۱,۵	<p>www.Heyvagroup.com در هر کدام از موارد زیر، جای خالی را پر کنید.</p> <p>الف) <math>\frac{2a+1}{3} = \frac{a+5}{4} \rightarrow \frac{\square}{3} = \frac{a+1}{4}</math></p> <p>ب) <math>\frac{a+5}{6} = \frac{a+6}{5} \rightarrow \frac{\square}{a+6} = \frac{11}{5}</math></p>	۷
۲	عکس قضیه تالس را بیان و ثابت کنید.	۸
۲	<p>طول های اضلاع مثلثی ۴ و ۶ و ۸ سانتی مترند و بلندترین ارتفاع آن <math>\frac{3\sqrt{15}}{2}</math> سانتی متر است. طول های دو ارتفاع دیگر مثلث را بدست آورید.</p>	۹
۱,۵	<p>در شکل مقابل <math>MN \parallel BC</math>، مقادیر <math>x</math> و <math>y</math> را بدست آورید.</p> 	۱۰
۲	<p>در شکل مقابل <math>BD = \frac{2}{3}DC</math> می باشد،</p> <p>الف) نسبت مساحت مثلث ADC به مساحت مثلث ABD چقدر است؟</p> <p>ب) نسبت مساحت مثلث ABC به مساحت مثلث ABD چقدر است؟</p> 	۱۱
۱,۵	<p>در شکل مقابل می دانیم <math>BE \parallel DF, BC \parallel DE</math> ثابت کنید:</p>  <p><math>AE^2 = AC \cdot AF</math></p>	۱۲

<p>نام درس: هندسه دهم ریاضی                  نام دبیر: لیلا حیدرزاده                  تاریخ امتحان: ۱۳۹۶/۱۰/۱۳                  ساعت امتحان: ۸ صبح / عصر                  مدت امتحان: ۲۰ دقیقه</p>	<p>www.Heyvagrroup.com                  اداره ی کل آموزش و پرورش شهر تهران                  اداره ی آموزش و پرورش شهر تهران منطقه ۶ تهران                  دبیرستان غیردولتی دخترانه  </p>	<p>پاسخ نامه سوالات</p>
--	---	-------------------------

ردیف	راهنمای تصحیح	نمره
۱.۲۵	الف) عمود منصف (ب) خارج (ج) خارج (د) $2\sqrt{3}, -2\sqrt{3}$	۱
۲	<p>فرض: مثلث ABC حکم: هم‌رسی سه ارتفاع                      برهان: مثلث ABC را در نظر می‌گیریم و ارتفاع AH را رسم می‌کنیم. از همه راس مثلث ABC خطی موازی رو به رو رسم می‌کنیم تا این خطوط یکدیگر را قطع کنند. مثلث حاصل را EFG می‌نامیم. نشان می‌دهیم ارتفاع AH عمود منصف ضلع EG می‌باشد.</p> <p>۱) <math>\left. \begin{matrix} AH \perp BC \\ EG \perp BC \end{matrix} \right\} \Rightarrow AH \perp EG</math></p> <p>۲) <math>\left. \begin{matrix} AG \parallel BC \\ AB \parallel CG \end{matrix} \right\} \Rightarrow AG = BC \Rightarrow AG = AE</math></p> <p><math>\left. \begin{matrix} AE \parallel BC \\ AC \parallel EB \end{matrix} \right\} \Rightarrow AE = BC</math></p> <p>۲) نتیجه می‌دهد که AH میانه EG است و ارتفاع. پس AH عمود منصف EG است. به همین ترتیب می‌توان نشان داد ارتفاع های دو ضلع دیگر AC و AB، عمود منصف اضلاع EF و FG است. می‌دانیم عمود منصف اضلاع هر مثلث هم‌رسند ارتفاع ها هم هم‌رسند.</p> 	۲
۱.۵	<p>پاره خط AB را رسم می‌کنیم. نقطه یا نقاطی از صفحه که از دو سر پاره خط به یک فاصله باشد. روی عمود منصف پاره خط AB را رسم می‌کنیم. محل تلاقی عمود منصف، خط d، نقطه یا نقاطی مورد نظر می‌باشد. نقطه m نقطه مورد نظر است.</p>  <p>ب) نقطه یا نقاطی از صفحه که از دو ضلع زاویه به یک فاصله است. روی نیم‌ساز زاویه XOY قرار دارد. نیم‌ساز زاویه را رسم می‌کنیم. محل تلاقی نیم‌ساز و دایره نقاط مورد نظر می‌باشد. نقطه A, B روی دایره از اضلاع زاویه به یک فاصله اند.</p> 	۳

<p>۱,۲۵</p>	<p><math>\widehat{A} &gt; \widehat{C}</math>  <math>AB = 3X - 15</math>  <math>BC = 2X + 20</math>  <math>X = ?</math></p> <p>برهان: طبق فرض <math>\widehat{A} &gt; \widehat{C}</math> بنا بر قضیه ضلع برتر <math>BC &gt; AB</math> پس:</p> $2x + 20 > 3x - 15 \rightarrow 20 + 15 > 3x - 2x \rightarrow 35 > x$ $3x - 15 > 0 \rightarrow 3x > 15 \rightarrow x > 5$ $2x + 20 > 0 \rightarrow 2x > -20 \rightarrow x > -10$ $5 < x < 35$	<p>۴</p>
<p>۱,۵</p>	<p>(الف) مثال نقض</p>  <p>(ب) مثال نقض</p> 	<p>۵</p>
<p>۲</p>	<p>فرض: نقطه m خارج خط d              حکم: رسم خط عمود بر d</p>  <p>برهان: برای رسم خط عمود از عمود منصف پاره خط استفاده می کنیم. به مرکز m به شعاع فاصله ای بیشتر از فاصله m از d دایره ای رسم می کنیم تا خط d را در نقطه A و B قطع کند. عمود منصف پاره خط AB را رسم می کنیم. N روی d' است چون از دو سر پاره خط AB به یک فاصله است.</p>	<p>۶</p>
<p>۱,۵</p>	<p>(الف)</p> $\frac{2a+1}{3} = \frac{a+5}{4} \Rightarrow \frac{2a+1-3}{3} = \frac{a+5-4}{4} \Rightarrow \frac{2a-2}{3} = \frac{a+1}{4}$ <p>(ب)</p> $\frac{a+5}{6} = \frac{a+6}{5} \Rightarrow \frac{a+5}{a+6} = \frac{6}{5} \Rightarrow \frac{a+5+a+6}{a+6} = \frac{6+5}{5} \Rightarrow \frac{2a+11}{a+6} = \frac{11}{5}$	<p>۷</p>
<p>۲</p>	<p>عکس قضیه تالس: اگر خطی دو ضلع مثلث را قطع کند نسبت های متناسب ایجاد کند با ضلع سوم موازی است.</p> <p>حکم: <math>DE \parallel BC</math></p> <p>فرض: <math>\frac{AD}{DB} = \frac{AE}{EC}</math></p>  <p>اثبات به روش برهان خلف: فرض می کنیم <math>DE \parallel BC</math> نیست از نقطه D خارج BC می توان یک خط به موازات BC رسم کرد.</p> $BC \parallel DM \Rightarrow \left. \begin{array}{l} \frac{AD}{DB} = \frac{AM}{MC} \\ \frac{AD}{DB} = \frac{AE}{EC} \end{array} \right\} \Rightarrow \frac{AM}{MC} = \frac{AE}{EC} \Rightarrow \frac{AM}{AC} = \frac{AE}{AC}$ <p>در نتیجه <math>AM = AE</math> و M بر E منطبق است پس فرض خلف رد می شود و حکم اثبات می شود.</p>	<p>۸</p>

۲	<p>www.Heyvagrroup.com</p> <p>فرض: <math>h_b = \frac{3\sqrt{15}}{2}</math></p> <p>حکم: <math>h_c = ?</math></p> <p>می دانیم بلندترین ارتفاع وارد بر کوچکترین ضلع است و اضلاع با ارتفاع نسبت عکس دارند.</p> $\frac{a}{b} = \frac{h_b}{h_a} \rightarrow \frac{8}{4} = \frac{\frac{3\sqrt{15}}{2}}{h_a} \Rightarrow h_a = \frac{3\sqrt{15}}{4}$ $\frac{c}{b} = \frac{h_b}{h_c} \rightarrow \frac{6}{4} = \frac{\frac{3\sqrt{15}}{2}}{h_c} \rightarrow h_c = \sqrt{15}$	۹
۱,۵	<p>حکم: <math>X=? , Y=?</math></p> <p>فرض: <math>MN \parallel BC</math></p> $MN \parallel BC \rightarrow \frac{9}{9+X} = \frac{X}{4+X} = \frac{2Y-1}{X+2} \Rightarrow \begin{cases} X = 6 \\ Y = 2/9 \end{cases}$	۱۰
۲	<p>حکم: <math>\frac{S_{ADC}}{S_{ABD}} = ? , \frac{S_{ABD}}{S_{ABC}} = ?</math></p> <p>فرض: <math>BD = \frac{4}{3}DC</math></p> <p>برهان: می دانیم اگر دو مثلث راس مشترک داشته باشند و قاعده ها روی خط راست باشند، نسبت مساحت ها با نسب قاعده ها برابر است.</p> $\frac{S_{ADC}}{S_{ABD}} = \frac{DC}{BD} = \frac{DC}{\frac{4}{3}DC} = \frac{3}{4}$ $\frac{S_{ABD}}{S_{ABC}} = \frac{BD}{BC} = \frac{\frac{4}{3}DC}{\frac{4}{3}DC + DC} = \frac{\frac{4}{3}DC}{\frac{7}{3}DC} = \frac{4}{7}$	۱۱
۱,۵	<p>حکم: <math>AE^2 = AC \cdot AF</math></p> <p>فرض: <math>BC \parallel DE , BE \parallel DF</math></p> $BC \parallel DE \Rightarrow \frac{AC}{CE} = \frac{AB}{BD} \Rightarrow \frac{AC}{CE} = \frac{AE}{EF} \Rightarrow \frac{AC}{AE} = \frac{AE}{AF} \Rightarrow AE^2 = AC \cdot AF$ $BE \parallel DF \Rightarrow \frac{AE}{EF} = \frac{AB}{BD}$	۱۲