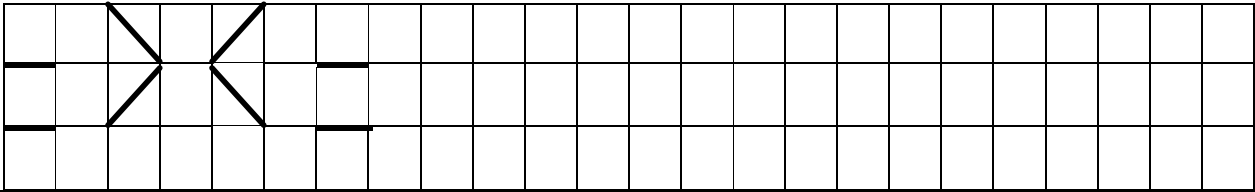

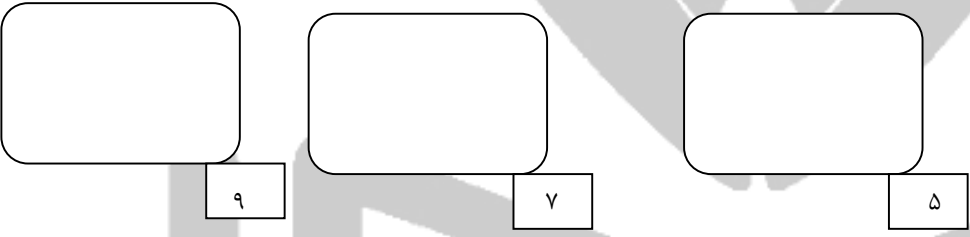
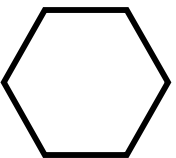


<p>نام و نام خانوادگی : آزمون ریاضی پایه اول ابتدایی دبستان غیردولتی پسرانه کوشا (کلاله) دیماه ۹۶</p>	<p>ردیف</p>																
<p>مانند نمونه ادامه بده .</p> 	<p>۱</p>																
<p>برای شکل زیر یک عبارت تفریق بنویس .</p> 	<p>۲</p>																
<p>جدول را با شکل مناسب کامل کن .</p> <table border="1" data-bbox="63 705 582 929"> <tr> <td></td> <td></td> <td></td> </tr> <tr> <td></td> <td></td> <td></td> </tr> <tr> <td></td> <td></td> <td></td> </tr> </table>										<p>۳</p>							
<p>برای اعداد زیر شکل بکش .</p> 	<p>۴</p>																
<p>تعداد گوشه های شکل روبرو را بشمارو بنویس .</p>  <p>..... گوشه</p>	<p>۵</p>																
<p>مربع های شگفت انگیز را با عددهای مناسب کامل کن .</p> <table border="1" data-bbox="63 1489 790 1803"> <tr> <td>۳</td> <td>۴</td> <td>۱</td> <td>۲</td> </tr> <tr> <td>۱</td> <td>۲</td> <td></td> <td>۴</td> </tr> <tr> <td>۴</td> <td></td> <td>۲</td> <td>۳</td> </tr> <tr> <td>۲</td> <td>۳</td> <td></td> <td></td> </tr> </table>	۳	۴	۱	۲	۱	۲		۴	۴		۲	۳	۲	۳			<p>۶</p>
۳	۴	۱	۲														
۱	۲		۴														
۴		۲	۳														
۲	۳																
<p>جمع و تفریق را انجام بده</p> <p> $۵ + ۲ = \text{-----}$ $۵ - ۳ = \text{-----}$ </p> <p> $۳ + ۴ = \text{.....}$ $۴ - ۱ = \text{.....}$ </p>	<p>۷</p>																

۸ عدد مربوط به هر شکل را زیر آن بنویس .

۹ عدد هر دسته را بنویس و بین دو عددیکی از علامتهای < = > را بگذار .

_____ ○ _____ _____ ○ _____

۱۰ به تعداد عددنوشته شده در ستون ها مربع رنگ کن و عدد ستون های رنگ شده را بنویس .

۲	۵		۷	

۱۱ عدد مربوط به هر شکل را بنویس با چوب خط حساب کن و حاصل جمع را بنویس

..... + =

نتیجه ی توصیفی ارزشیابی از آزمون : موفق باشید : سلطانی - قربانی