

به نام خدا

ارزشیابی ریاضی کلاس اول

نام و نام خانوادگی:

بهمن ۹۶-۹۵

۱- برای شکل جمع بنویس.



..... + =

۲- دور دسته ی کمتر خط بکش و دو طرف علامت عدد مناسب بنویس.

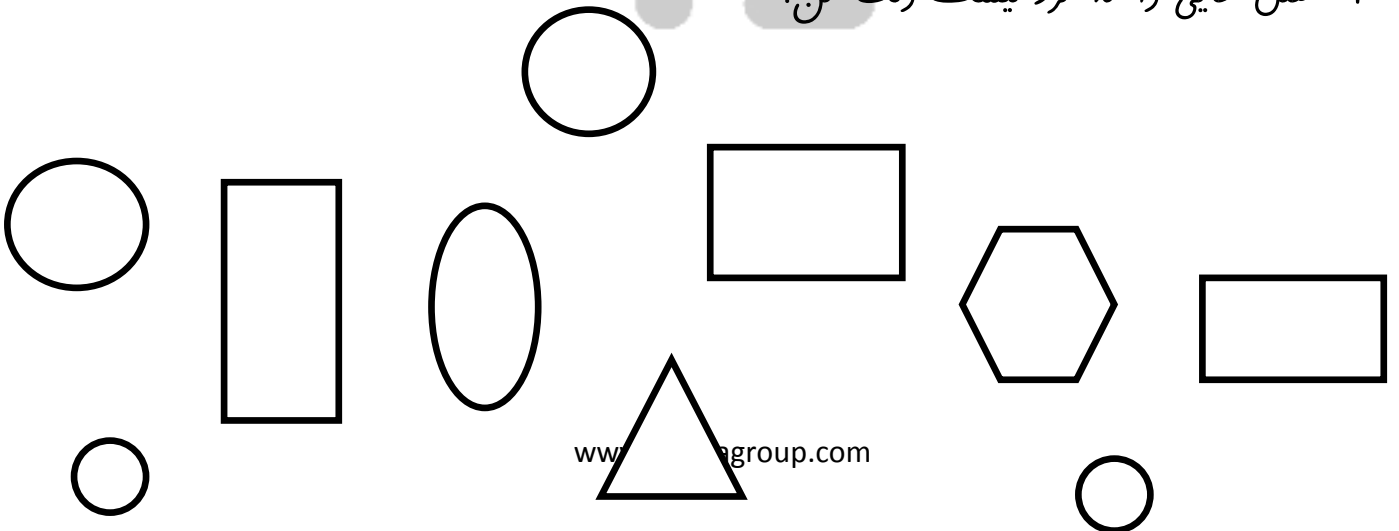


..... >

۳- در جای خالی عدد مناسب بنویس.

..... - - - ۳ - - - -

۴- شکل هایی را که گرد نیست رنگ کن.



$$7 - 2 = \dots\dots$$

۵- برای تفریق شکل بکش.

۶- در جای خالی عدد و علامت مناسب $< = >$ بنویس.

$$\square = \square$$

$$4 \square 6$$

$$3 < \square$$

۷- ۳ جمع برای عدد ۴ بنویس.

$$\dots\dots + \dots\dots = 4$$

$$\dots\dots + \dots\dots = 4$$

$$\dots\dots + \dots\dots = 4$$

۸- برای شکل تفریق بنویس.



$$\dots\dots - \dots\dots = \dots\dots$$






۹- در جای خالی عدد مناسب بنویس.

$$4 - 3 = \dots\dots$$


$$2 + \dots\dots = 5$$

$$1 + 5 = \dots\dots \quad 3 - \dots\dots = 2$$

۱۰- با توجه به شکل عدد دسته و به اندازه ی عدد شکل بکش.



۷



۶



۹

۱۱- پروانه برای تولدش ۲ شمع آبی و ۳ شمع قرمز روشن کرد. او چند شمع روشن کرده است؟


شکل آن ها را بکش.

۱۲- برای جمع ها شکل بکش.

$$۳ + ۴ = \square$$

$$۱ + ۲ = \square$$

۱۳- الگو را ادامه بده.



۱۴- جدول را کامل کن.
