

به نام مهربان ترین

نام و نام خانوادگی: ارزشیابی ریاضی کلاس اول دبستان غیردولتی صا دی ۹۵

۱- موشی را که به راست می رود در خط بسته قرار بده.

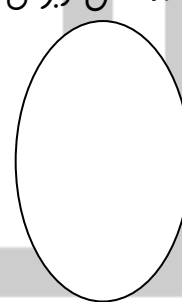






۲- دور دسته ی کمتر خط بکش و دوطرف علامت عدد مناسب بنویس



..... <

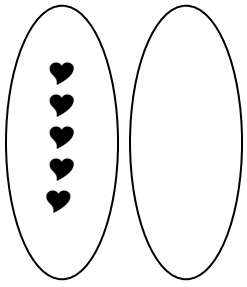
۳- با توجه به عدد شکل و برای شکل ها عدد مناسب بنویس.



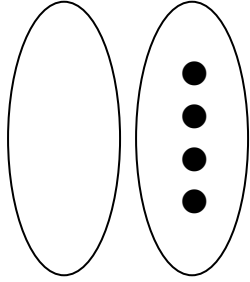
۴- عددها را به ترتیب از کمتر به بیش تر مرتب کن.

.. ۷ - ۲ - ۴ - ۰ - ۱ - ۳ - ۵ - ۶ - ۹ - ۸ -

۵ - کامل کن عدد و علامت مناسب بنویس.



۵ ۶




..... >

۶- برای شکل جمع بنویس.



..... + =



..... + =

۷- در جای خالی عدد مناسب بنویس.

$$1 + \dots = 5$$

$$\dots + 3 = \dots$$

$$1 + 2 = \dots$$

$$2 + 3 = \dots$$

$$1 + \dots = 2$$

$$\dots + 2 = 4$$

۸- در جای خالی عدد و علامت مناسب (<=>) بنویس.

$$4 \square 6$$

$$7 \square 5$$

$$2 \square 2$$

$$4 = \square$$

$$\square > 5$$

$$\square < 7$$

۹- برای جمع شکل بکش.

$$3 + 3 = \dots$$

$$4 + 2 = \dots$$

