




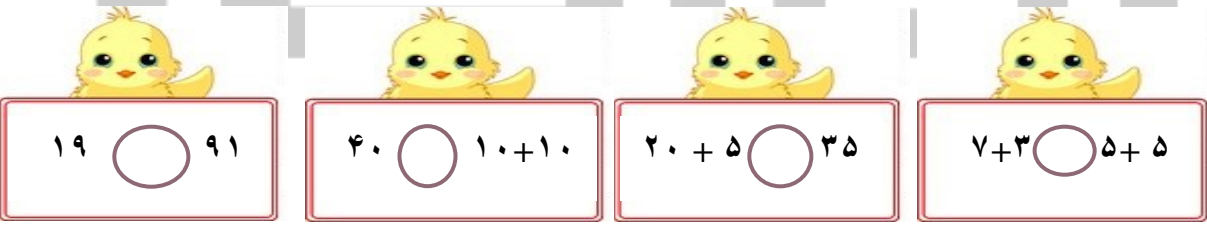




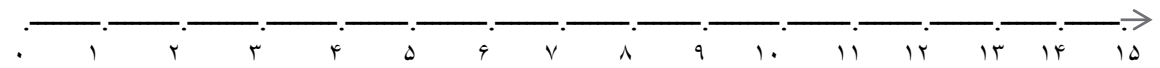
نمونه آزمون ریاضی پایه اول

به نام خدا


نام و نام خانوادگی :


اردیبهشت ماه ۹۱


<p>۱ جاهای خالی را طبق نمونه های داده شده ادامه بده.</p> <p>     </p>	<p>۱</p>
<p>۲ جمع های زیر را با استفاده از چوب خط و مداد رنگی حل کن.</p> <p> $4 + 5 + 8 = \dots\dots\dots$ $9 + 3 + 6 = \dots\dots\dots$ </p> <p></p>	<p>۲</p>
<p>۳ علامت مناسب $>$ $=$ $<$ بگذار.</p> <p>  </p>	<p>۳</p>
<p>علی ۱۴ جوجه زرد و سیاه خرید. ۵ تا از جوجه ها سیاه و بقیه زرد بودند. تعداد جوجه های زرد را بنویسید. (با شکل هم نشان بده)</p> <p style="text-align: center;">www.Heyvagroup.com</p>	


<p>جمع های زیر را انجام بده.</p> <p>$۲۰ + ۱۰ + ۵ + ۵ = \dots\dots\dots$</p> <p>$۲۵ + ۵ + ۵ + ۵ + ۳ = \dots\dots\dots$</p>	<p>$۱۰ + ۵ + ۱۰ + ۱۰ = \dots\dots\dots$</p> <p>$۱۰ + ۲۰ + ۲۰ = \dots\dots\dots$</p>	<p>۵</p>
<p>محمد ۱۶ مرغ و خروس و جوجه دارد. ۶ تا از آن ها مرغ و ۴ تا خروس هستند. تعداد مرغ و خروس ها چند تا است؟ تعداد جوجه ها چند تا است؟</p> <p>تعداد مرغ و خروس ها</p> <p>تعداد جوجه ها</p>		<p>۶</p>
<p>ساعت چند است.</p>  <p>ساعت ۳ را با عقربه نشان بده</p>		<p>۷</p>
<p>جمع و تفریق زیر را روی محور نشان بده.</p> <p>$۳ + ۴ + ۵ = \dots\dots$</p>  <p>$۱۴ - ۳ = \dots\dots$</p> 		<p>۸</p>

تفریق های زیر را انجام بده.

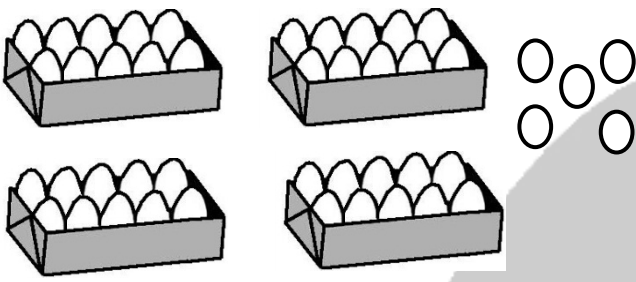
۱۰ - ۳ = 

۹ - ۵ = 

۱۲ - ۷ = 

۸ - ۳ = 


جاهای خالی را با عدد مناسب کامل کن.



یکی	ده تایی

به رقم
به حروف

نمونه الگو داده شده را در قرینه آن بکش.



جدول سودوکو زیر را کامل کن.

۶	۲	۹	۸	۳	۷	۱	۴	۵
۷	۸	۱	۴	۹	۵	۳	۲	۶
۴	۳			۶			۹	۷
۵	۷			۴			۸	۱
۹	۴	۶	۳	۱	۸	۷	۵	۲
۸	۱			۵		۶	۳	۴
۲	۹			۸			۶	۳
۱	۶	۸	۵	۲	۳	۴	۷	۹
۳	۵	۴	۹	۷	۶	۲	۱	۸

بازخورد آموزگار :

.....

www.Heyvagroup.com