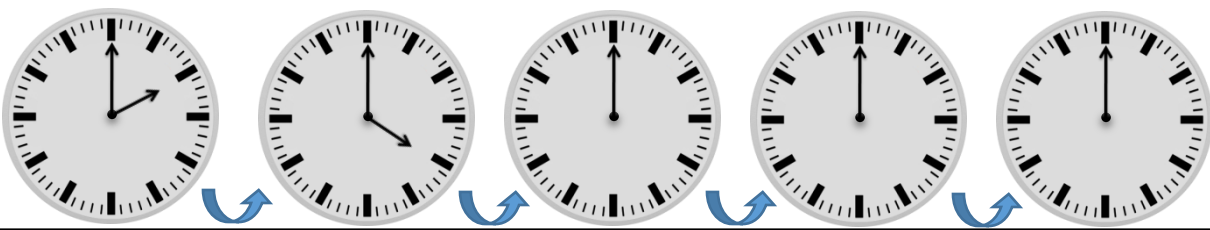
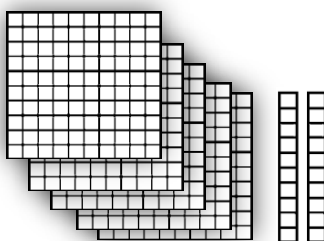


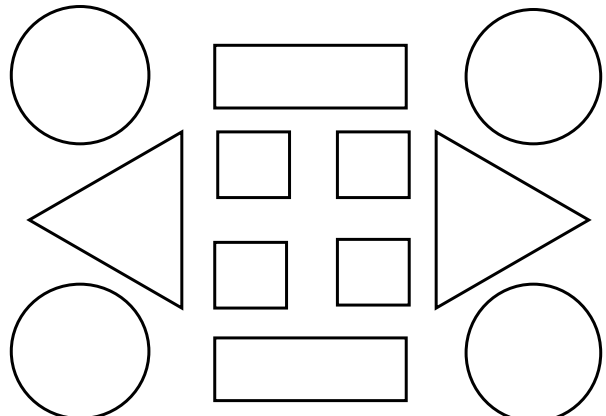
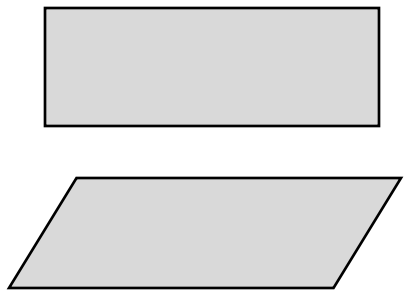


	<p>۱ عددهای دو رقمی بنویسید که یکان آن ها ۴۰۲ و دهگان آن ها ۸۰۵ باشد.</p> <p style="text-align: center;"> <input type="text"/> <input type="text"/> <input type="text"/> <input type="text"/> </p>	۱																		
	<p>۲ جاهای خالی را با توجه به الگوی آن ها پر کنید.</p> <p>۱۷ - ۱۸ - ۱۹ - <input type="text"/> - <input type="text"/> - <input type="text"/> - <input type="text"/> - <input type="text"/></p> <p><input type="text"/> - <input type="text"/> - <input type="text"/> - <input type="text"/> سی و شش - سی و هفت - سی و هشت - سی و نهم</p> <p>۵۵ - ۵۸ - ۶۰ - <input type="text"/> - <input type="text"/> - <input type="text"/> - <input type="text"/></p>	۲																		
	<p>۳ الگوی زیر با کشیدن عقربه نشان بدهید.</p> 	۳																		
	<p>۴ جمع و تفریق های زیر با استفاده از روش گسترده نویسی حساب کنید.</p> <table style="width: 100%; text-align: center;"> <tr> <td>$\begin{array}{r} 46 \\ - 16 \\ \hline \end{array}$</td> <td>$\begin{array}{r} 24 \\ + 24 \\ \hline \end{array}$</td> <td>$\begin{array}{r} 67 \\ - 30 \\ \hline \end{array}$</td> <td>$\begin{array}{r} 20 \\ + 29 \\ \hline \end{array}$</td> </tr> </table>	$\begin{array}{r} 46 \\ - 16 \\ \hline \end{array}$	$\begin{array}{r} 24 \\ + 24 \\ \hline \end{array}$	$\begin{array}{r} 67 \\ - 30 \\ \hline \end{array}$	$\begin{array}{r} 20 \\ + 29 \\ \hline \end{array}$	۴														
$\begin{array}{r} 46 \\ - 16 \\ \hline \end{array}$	$\begin{array}{r} 24 \\ + 24 \\ \hline \end{array}$	$\begin{array}{r} 67 \\ - 30 \\ \hline \end{array}$	$\begin{array}{r} 20 \\ + 29 \\ \hline \end{array}$																	
	<p>۵ عدد مربوط به هر شکل را به عدد و حروف بنویسید</p> <div style="display: flex; justify-content: space-between;"> <div style="width: 30%;">  </div> <div style="width: 30%;"> <table border="1" style="width: 100%; text-align: center;"> <thead> <tr> <th>یکان</th> <th>دهگان</th> <th>صدگان</th> </tr> </thead> <tbody> <tr> <td style="height: 30px;"></td> <td style="height: 30px;"></td> <td style="height: 30px;"></td> </tr> </tbody> </table> </div> <div style="width: 30%; text-align: right;"> <input type="text"/> </div> </div> <div style="display: flex; justify-content: space-between; margin-top: 20px;"> <div style="width: 30%;">  </div> <div style="width: 30%;"> <table border="1" style="width: 100%; text-align: center;"> <thead> <tr> <th>یکان</th> <th>دهگان</th> <th>صدگان</th> </tr> </thead> <tbody> <tr> <td style="height: 30px;"></td> <td style="height: 30px;"></td> <td style="height: 30px;"></td> </tr> </tbody> </table> </div> <div style="width: 30%; text-align: right;"> <input type="text"/> </div> </div> <div style="display: flex; justify-content: space-between; margin-top: 20px;"> <div style="width: 30%;">  </div> <div style="width: 30%;"> <table border="1" style="width: 100%; text-align: center;"> <thead> <tr> <th>یکان</th> <th>دهگان</th> <th>صدگان</th> </tr> </thead> <tbody> <tr> <td style="height: 30px;"></td> <td style="height: 30px;"></td> <td style="height: 30px;"></td> </tr> </tbody> </table> </div> <div style="width: 30%; text-align: right;"> <input type="text"/> </div> </div>	یکان	دهگان	صدگان				یکان	دهگان	صدگان				یکان	دهگان	صدگان				۵
یکان	دهگان	صدگان																		
یکان	دهگان	صدگان																		
یکان	دهگان	صدگان																		

	<p>۶ به عدد یا حروف بنویسید</p> <p>دویست و دوازده ۵۴۶</p> <p>۱۰۵ چهارصد بیست و دو</p>
	<p>۷ هر کدام از اعداد داده شده به کدامیک نزدیک تر است؟ داخل آن را رنگ بزنید</p> <p>۲۰ ← ۲۴ → ۳۰</p> <p>۲۵۰ ← ۲۵۷ → ۲۶۰</p> <p>۱۰۰ ← ۱۲۸ → ۲۰۰</p>
	<p>۸ شکل های زیر را طبق راهنما رنگ بزنید.</p> <p>مربع → قرمز</p> <p>مستطیل → آبی</p> <p>مثلث → زرد</p> <p>دایره → سبز</p> 
	<p>۹ تفاوت و شباهت های شکل های زیر را بنویسید.</p> <p>تفاوت:</p> <p>شباهت:</p> 

ارزشیابی آموزگار

- خیلی خوب
- خوب
- قابل قبول
- نیاز به تلاش بیشتر