
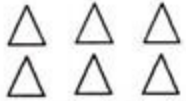



<p>فرآیندی</p> $\begin{array}{r} 523 \\ + 102 \\ \hline \end{array}$ $\begin{array}{r} 362 \\ + 125 \\ \hline \end{array}$	<p>جواب جمع و تفریق های زیر را با روش های خواسته شده به دست آورید.</p> <p>تقریبی</p> $\begin{array}{r} 97 \\ + 43 \\ \hline \end{array}$ <p>تکنیکی</p> $\begin{array}{r} 834 \\ - 216 \\ \hline \end{array}$ $\begin{array}{r} 625 \\ + 109 \\ \hline \end{array}$	۸
<p>اندازه ضلع هر شکل را اندازه بگیرید و بنویسید.</p> <div style="display: flex; justify-content: space-around; align-items: center;"> <div data-bbox="321 467 578 626" style="border: 1px solid black; width: 180px; height: 80px;"></div> <div data-bbox="906 457 1085 626" style="border: 1px solid black; width: 125px; height: 85px;"></div> </div>		۹
<p>کتاب داستان محمد ۲۸۰ صفحه دارد. اول ۱۸۰ صفحه از کتاب داستانش را خوانده است و ۵۵ صفحه دیگر از آن را امروز خواند.</p> <p>محمد چند صفحه از کتابش را خوانده است؟</p> <p>چند صفحه از کتابش را نخوانده است؟</p>		۱۰
<p>قد امیر ۱۳۹ سانتی متر و قد سجاد ۱۳۰ سانتی متر است. قد هر دو نفر چند سانتی متر است؟</p>		۱۱
<p>۶ قسمت از ۱۸ قسمت مساوی</p> 	<p>باتوجه به عبارت نوشته شده شکل را رنگ بزن.</p>  <p>۲ قسمت از ۶ قسمت مساوی</p>	۱۲
<p>کامل کن.</p> <p>۳ سانتی متر و ۶ میلی متر برابر است با میلی متر.</p> <p>۷۵ میلی متر می شود سانتی متر و میلی متر.</p> <p>۹۰ میلی متر سانتی متر می شود.</p> <p>۲۰۰ ریال برابر است با سکه ۱۰۰ ریالی.</p>		۱۳

تعداد دانش آموزان شرکت کننده در رشته های ورزشی یک باشگاه به صورت زیر است.

رشته	والیبال	بسکتبال	فوتبال	کاراته	شنا	ژیمناستیک
تعداد	۶۳	۴۸	۳۳	۳۴	۳۸	۲۱
تعداد تقریبی

ابتدا تعداد تقریبی دانش آموزان را بنویسید و نمودار را با نشان دادن هر ۱۰ نفر با شکل کامل کن.



۱۵ دو شکل زیر چه تفاوت و شباهتی باهم دارند؟



تفاوت:

شباهت:

۱۶ در جعبه ی مدارنگی ۲ مداد قرمز ، ۵ مداد آبی و ۳ مداد سبز وجود دارد:

چه کسری از مدادها قرمز است؟

چه کسری از مدادها آبی است؟

چه کسری از مدادها سبز است؟

۱۷ در جای خالی عدد مناسب بنویس.

۵۳ به چه عددی نزدیک تر است؟

۲۷۹ به چه عددی نزدیک تر است؟

توصیف عملکرد:

خیلی خوب

خوب

قابل قبول

نیاز به تلاش بیشتر

موفق و پیروز باشید.