

	<p>به نام خدا</p> <p>نام و نام خانوادگی : دبستان خیریه ابوظافل (ع)</p> <p>نام پدر : کلاس دوم ب</p> <p>نوبت دوم</p> <p>تاریخ :</p>
	<p>۱- عدد های زیر را به حروف و رقم بنویسید .</p> <p>دویست و پنجاه و شش ۴۰۴</p>
	<p>۲- جاهای خالی را پر کنید .</p> <p>۸۶۴ برابر است با یکی و ده تایی و صدتایی.</p> <p>کوچک ترین عدد یک رقمی و بزرگ ترین عدد یک رقمی است .</p>
	<p>۳- دنباله ی عدد های زیر را بنویسید .</p> <p>۰ - ۲ - ۴ -</p> <p>۳۰۰ - ۳۰۱ -</p>
	<p>۴- دور عدد های زوج خط بکشید .</p> <p>۳۰ - ۲۳ - ۶ - ۲ - ۷ - ۱۰ - ۵ - ۱۴</p>
	<p>۵- زیر عدد های فرد خط بکشید .</p> <p>۱۹ - ۲۰ - ۱۱ - ۲۴ - ۵ - ۱۳ - ۴ - ۷</p>
	<p>۶- جمع و تفریق های زیر را انجام دهید .</p> <p>$۵+۲=$ $۱۲-۵=$ $(۳+۲)+۱=$</p> <p>$۹+۷=$ $۱۵ - ۷=$ $۲+(۴+۳)=$</p>
	<p>۷- جاهای خالی را پر کنید .</p> <p><input type="checkbox"/> <input type="checkbox"/> $۳ + = ۵$ $- ۷ = ۳$</p> <p><input type="checkbox"/> $+ ۲ = ۱۰$ \square $۲ - = ۰$</p> <p>www.Heyvagroup.com</p>

۸- با استفاده از محور حاصل تفریق را پیدا کنید .



$$14 - 8 =$$

۹- در جاهای خالی علامت $<$ $=$ $>$ قرار دهید .

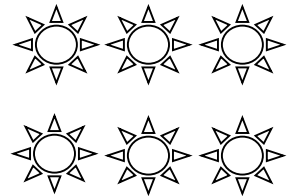
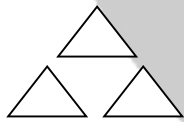
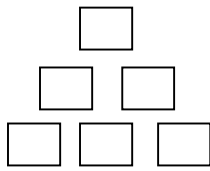
$$4 + 2 \square 9 - 3$$

$$100 \square 99$$

$$16 \square 61$$

$$549 \square 803$$

۱۰- برای هر شکل دو جمع و دو تفریق بنویسید .



۱۱- علی ۱۱ مداد داشت. ۴ تای آن را به خواهرش داد. حالا او چند مداد دارد؟

۱۲- ساعت زیر را کامل کنید و ۴:۲۵ را نشان دهید

