

باسمه تعالی

وزارت آموز و پرورش اصفهان

منطقه زواره

آزمون مداد کاغذی: ریاضی

طراح: فاطمه مسلمی

تاریخ آزمون:

دبستان: شهید علی اکبر زائری

پایه دوم ابتدایی

زمان آزمون: ۴۵ دقیقه

نام پدر:

نام و نام خانوادگی:

۱- عزیزم با حدس زدن به جای مربع عدد مناسب بگذارید.

$$25 + \square = 68$$

حدس دوم

$$43 - \square = 15$$

حدس دوم

۲- کامل کنید.

۸۶ میلی متر یعنی _____ سانتی متر و _____ میلی متر.

_____ میلی متر یعنی ۶ سانتی متر و ۴ میلی متر .

۹ سانتی متر یعنی _____ میلی متر .

۲ سانتی متر و ۳ میلی متر یعنی _____ میلی متر.

۳- جمع و تفریق های زیر را به روش فرایندی انجام بده.

۳۲۵	۴۰۲	۸۲۵	۶۹۴
+۲۳۶	+۳۲۶	-۲۱۴	-۲۵۲
_____	_____	_____	_____

۴- یک کتاب داستان ۳۴۲ صفحه دارد . علی ۴۸ صفحه را هفته قبل خوانده بود. این هفته او ۹۷ صفحه ی دیگر را خواند. چند صفحه از کتاب باقی مانده است؟

۵- باز شده ی عدد های زیر را بنویسید.

۸۵۲ =	۴۰۹ =
۷۵۰ =	۳۷۶ =

۶- جمع و تفریق انتقالی زیر را انجام دهید.

۵۴۶	۸۲۴	www.Heyvagroup.com
+ ۲۶۷	- ۳۵۶	

باسمه تعالی

وزارت آموز و پرورش اصفهان

منطقه زواره

آزمون مداد کاغذی: ریاضی

تاریخ آزمون:

پایه دوم ابتدایی

نام پدر:

طراح: فاطمه مسلمی

دبستان: شهید علی اکبر زائری

زمان آزمون: ۴۵ دقیقه

نام و نام خانوادگی:

$$۸+۲۰+۳۰۰+۲۰۰+۹+۱۰۰=$$

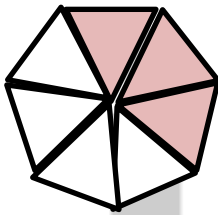
جمع زیر را انجام دهید.



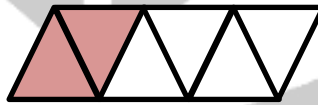
۷- ساعت _____ و _____ دقیقه است.

یعنی _____ دقیقه مانده به _____.

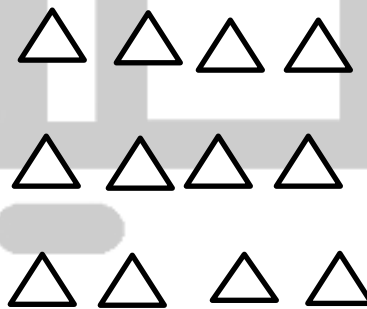
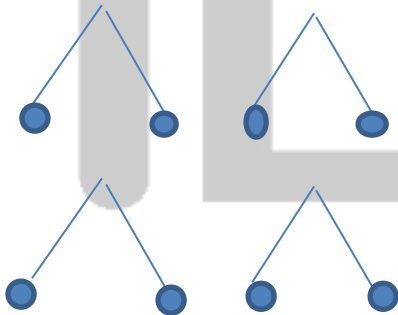
ده دقیقه قبل ساعت _____ و _____ بوده است.



۸- عبارت (کسر) مربوط به هر شکل را بنویس.



۹- با توجه به شکل کامل کن.



_____ دسته ی _____ تایی

_____ دسته ی _____ تایی

باسمه تعالی

وزارت آموز و پرورش اصفهان

منطقه زواره

آزمون مداد کاغذی: ریاضی

تاریخ آزمون:

پایه دوم ابتدایی

نام پدر:

طراح: فاطمه مسلمی

دبستان: شهید علی اکبر زائری

زمان آزمون: ۴۵ دقیقه

نام و نام خانوادگی:

جدول توصیف عملکرد

سطح عملکرد	تسلط کامل	تسلط متوسط	متوسط	کم	خیلی کم
ملاک و شواهد					
جمع و تفریق فرآیندی					
جمع و تفریق انتقال					
سانتی متر و میلی متر					
حل مساله					
کسر					

خودسنجی

دانش آموز خوبم با توجه به عملکرد خود د این آزمون جمله های زیر را کامل کن

۱- من یاد گرفتم

۲-

۲- اما یاد نگرفتم

۳- آنچه باید انجام دهم تا بیشتر یاد بگیرم