

هیاوا! تخصصی ترین سایت مشاوره کشور

نام و نام خانوادگی: مقطع و رشته: شماره داوطلب: تعداد صفحه سؤال:	www.Heyvagrroup.com اداره ی کل آموزش و پرورش شهر تهران اداره ی آموزش و پرورش شهر تهران منطقه تهران دبیرستان غیردولتی پسرانه / دخترانه 	نام درس: نام دبیر: تاریخ امتحان:/...../..... ۱۳..... ساعت امتحان:صبح/ عصر مدت امتحان: دقیقه
--	--	---

بازم	سؤالات	ردیف
۱	سؤالات صحیح- غلط (۱ تا ۴)	الف
۰/۲۵	<input type="checkbox"/> صحیح <input type="checkbox"/> غلط ما تا آنجا می توانیم حق خود را اعمال کنیم که مغایر قانون نباشد.	۱
۰/۲۵	<input type="checkbox"/> صحیح <input type="checkbox"/> غلط تولید محصول به منظور رفع وظایف انسان صورت می گیرد.	۲
۰/۲۵	<input type="checkbox"/> صحیح <input type="checkbox"/> غلط ما در روابطی که با دیگران برقرار می کنیم دارای «مسئولیت های متقابل» هستیم.	۳
۰/۲۵	<input type="checkbox"/> صحیح <input type="checkbox"/> غلط مهمترین قانون هر کشور قانون راهنمایی و رانندگی آن کشور است.	۴
۱/۵	سؤالات چهارگزینه ای (۵ تا ۱۰)	ب
۰/۲۵	چیزهایی است که انسان به دلیل مقام انسانی اش، شایستگی داشتن آنها را دارد. الف) غذا <input type="checkbox"/> ب) تحصیل <input type="checkbox"/> ج) حیات <input type="checkbox"/> د) حق <input type="checkbox"/>	5
۰/۲۵	به فردی می گویند که وظایف و مسئولیت هایش را خوب انجام می دهد. الف) سهل انگار <input type="checkbox"/> ب) موظف <input type="checkbox"/> ج) مکلف <input type="checkbox"/> د) مسئولیت پذیر <input type="checkbox"/>	6
۰/۲۵	تصویب قوانین عادی کشور در چارچوب قانون اساسی برعهده این قوه است. الف) مجلس خبرگان <input type="checkbox"/> ب) مجلس شورای اسلامی <input type="checkbox"/> ج) شورای نگهبان <input type="checkbox"/> د) قوه مقننه <input type="checkbox"/>	7
۰/۲۵	هرگاه مقررات توسط مجلس تصویب شود، این نام را به خود می گیرد. الف) قانون <input type="checkbox"/> ب) امریه <input type="checkbox"/> ج) مصوبه <input type="checkbox"/> د) لایحه <input type="checkbox"/>	8
۰/۲۵	پس از درک احساس فرد حادثه دیده به کمک او بشتابیم معادل کدام گزینه است؟ الف) همیاری <input type="checkbox"/> ب) همدردی <input type="checkbox"/> ج) همکاری <input type="checkbox"/> د) همسویی <input type="checkbox"/>	9
۰/۲۵	قانون اساسی جمهوری اسلامی ایران دارای چند اصل است؟ الف) ۷۱۱ اصل <input type="checkbox"/> ب) ۱۱۷ اصل <input type="checkbox"/> ج) ۱۷۷ اصل <input type="checkbox"/> د) ۱۷۱ اصل <input type="checkbox"/>	10
۱	جاخالی (۱۱ تا ۱۴)	پ
۰/۲۵ مادر همه قانون هاست و سایر قوانین در چارچوب آن تصویب می شوند.	۱۱

۰/۲۵	یکی از مهمترین دلایل پدید آمدن قوانین و مقررات چیست؟ www.heyvagr.com	۱۲															
۰/۲۵	همه افراد در برابر مساوی اند.	۱۳															
۰/۲۵	عدم رعایت قوانین و مقررات موجب پایداری شدن افراد می شود.	۱۴															
۲/۵	سوالات جور کردنی (۱۵) شماره گزینه مرتبط با هر یک از عبارتهای الف، ب، ج، د و ه را مقابل آن بنویسید (یک گزینه اضافی است). الف) مهمترین حق برای هر انسان است. () ب) وظایفی که هر یک از ما به عهده داریم و انتظار می رود آنها را انجام دهیم. () ج) قانون اساسی توسط این نهاد نوشته شد. () د) این نهاد بر انتخاباتی مانند انتخابات ریاست جمهوری نظارت می کند. () ه) موجب می شود، افراد حقوقی بر مبنای قوانین آن کشور داشته باشند. () ۱- مسئولیت ۲- مجلس خبرگان ۳- قوه قضاییه ۴- تبعه بودن ۵- شورای نگهبان ۶- حیات	۱۵															
2/5	تکمیل نمودار (هر مورد ۰/۵ نمره)	۱۶															
		۱۶															
۲	تکمیل جدول (هر مورد ۰/۵ نمره)	۱۷															
	<table border="1"> <thead> <tr> <th>ردیف</th> <th>توضیح</th> <th>پاسخ</th> </tr> </thead> <tbody> <tr> <td>۱</td> <td>تطبيق مصوبات مجلس با قانون اساسی و اصول و احكام دين اسلام را برعهده دارد.</td> <td></td> </tr> <tr> <td>۲</td> <td>این موسسه در زمان وقوع حوادث طبیعی یا جنگها به کمک مردم می شتابد.</td> <td></td> </tr> <tr> <td>۳</td> <td>به تجهیزاتی گفته می شود که برای تبدیل منابع طبیعی به کالا مورد نیاز است.</td> <td></td> </tr> <tr> <td>۴</td> <td>این موسسه برای جبران زیانهای مالی و جانی به وجود آمده است.</td> <td></td> </tr> </tbody> </table>	ردیف	توضیح	پاسخ	۱	تطبيق مصوبات مجلس با قانون اساسی و اصول و احكام دين اسلام را برعهده دارد.		۲	این موسسه در زمان وقوع حوادث طبیعی یا جنگها به کمک مردم می شتابد.		۳	به تجهیزاتی گفته می شود که برای تبدیل منابع طبیعی به کالا مورد نیاز است.		۴	این موسسه برای جبران زیانهای مالی و جانی به وجود آمده است.		۱۷
ردیف	توضیح	پاسخ															
۱	تطبيق مصوبات مجلس با قانون اساسی و اصول و احكام دين اسلام را برعهده دارد.																
۲	این موسسه در زمان وقوع حوادث طبیعی یا جنگها به کمک مردم می شتابد.																
۳	به تجهیزاتی گفته می شود که برای تبدیل منابع طبیعی به کالا مورد نیاز است.																
۴	این موسسه برای جبران زیانهای مالی و جانی به وجود آمده است.																
۱/۵	حدس بزن (هر مورد ۰/۵ نمره) با اندکی دقت به سوالات زیر پاسخ دهید.	۱۸															



الف) یک قرارداد بین بیمه گر و بیمه شونده (www.Heyvagrupo.com) ←

ب) به منابعی گفته می شود که در طبیعت وجود دارد مانند آب، خاک، جانوران، جنگل ها، معادن (نفت، گاز، زغال سنگ، آهن و) ... ←

ج) این مفهوم به این معناست که خود را به جای فرد دچار حادثه شده بگذاریم و احساس و شرایط او را

۲

وصل کردنی: شماره مربوط به ردیف های الف، ب، ج و د را در ستون شماره ی مربوطه بنویسید. (هر مورد ۰/۲۵)

ح
۱۹

ردیف	مواد اولیه	شماره مربوطه	شماره	محصول
الف	نخ نایلونی		۱	بیسکوئیت سازی
ب	خاک رُس		۲	کارخانه نساجی
ج	آرد		۳	قندسازی
د	قند		۴	کاشی و سرامیک

ردیف	مسئولیت	شماره مربوطه	شماره	نوع مسئولیت
الف	رعایت نظم در کلاس		۱	مسئولیت در برابر خداوند
ب	احترام به پدر و مادر		۲	مسئولیت در برابر همکلاسی
ج	شکرگذاری نعمتهای الهی		۳	مسئولیت در برابر محیط زیست
د	آسیب نرساندن به محیط زیست		۴	مسئولیت در برابر خانواده



۱

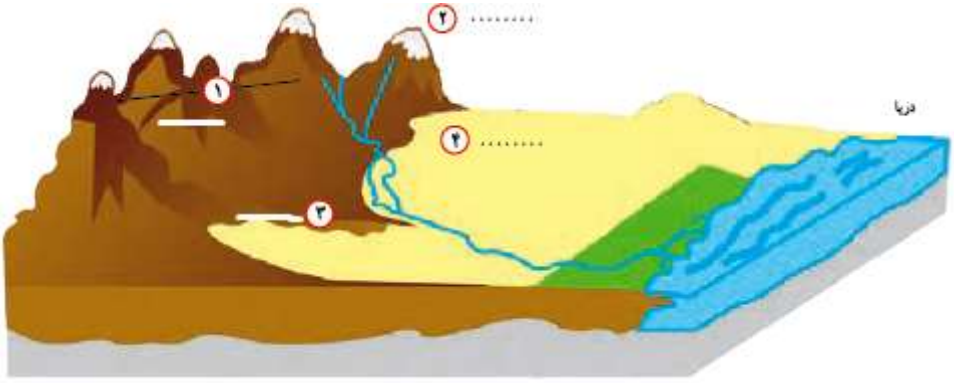

چیستان (هر مورد ۰/۵ نمره)


خ
۲۰

الف) من کیستم؟ « خیلی زود تحت تأثیر آگهی های تبلیغاتی یا مُدگرایی قرار می گیرم و اغلب برای تفریح یا خودنمایی و چشم و هم چشمی با دیگران کالایی را می خرم».

ب) من چیستم؟ « وسیله ای مهم در علم جغرافیا هستم در واقع تصویری افقی از سطح زمین هستم که به نسبت مورد نیاز کوچک شده ام».



۱	<p>تکمیل مُدل: روی مُدل کنار شماره‌ها کلمه‌ی www.Heyvagroup.com و کوه را بنویسید. (هر مورد ۰/۲۵ نمره).</p> 	۵ ۲۱
۴	سوالات تشریحی (۲۲ تا ۲۶)	ذ
۰/۵	<p>نوع بیمه‌های زیر را مشخص کنید. (اختیاری یا اجباری بودن)</p> <p>الف) بیمه وسایل نقلیه) ()</p> <p>ب) بیمه عمر) ()</p>	۲۲
۰/۷۵	سه مورد از خدماتی را که شهرداری ارائه می‌دهد را بنویسید.	۲۳
۰/۷۵	سه گروه عمده‌ی فعالیتهای اقتصادی را بنویسید.	۲۴
۱	کره جغرافیایی را تعریف کنید.	۲۵
۱	<p>هر یک از علامت‌های زیر نماد چه چیزی هستند؟ مقابل آن بنویسید.</p> 	۲۶
۲۰ نمره	<p>پیروز و سربلند باشید! «کریمی»</p>	۲۶ سؤال

نام درس: نام دبیر: تاریخ امتحان:/...../..... ۱۳ ساعت امتحان:صبح / عصر مدت امتحان: دقیقه	www.Heyvagroup.com اداره ی کل آموزش و پرورش شهر تهران اداره ی آموزش و پرورش شهر تهران منطقه تهران دبیرستان غیردولتی پسرانه / دخترانه 	پاسخ نامه سوالات
---	--	-------------------------

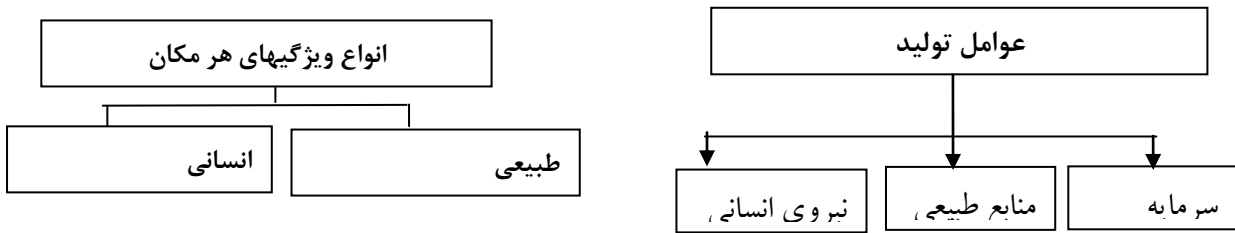
بارم	سؤالات	ردیف
۱	سوالات صحیح- غلط (۱ تا ۴)	الف
۰/۲۵	صحیح	۱
۰/۲۵	غلط	۲
۰/۲۵	غلط	۳
۰/۲۵	غلط	۴
۱/۵	سوالات چهارگزینه ای (۵ تا ۱۰)	ب
۰/۲۵	گزینه د	۵
۰/۲۵	گزینه د	۶
۰/۲۵	گزینه د	۷
۰/۲۵	گزینه الف	۸
۰/۲۵	گزینه الف	۹
۰/۲۵	گزینه ج	۱۰
۱	جاخالی (۱۱ تا ۱۴)	پ
۰/۲۵	قانون اساسی	۱۱
۰/۲۵	نظم	۱۲
۰/۲۵	قانون	۱۳
۰/۲۵	حقوق	۱۴
۲/۵	الف (۶) ب (۱) ج (۲) د (۵)	ت ۱۵

2/5

تکمیل نمودار (هر مورد ۰/۵ نمره)

ث

۱۶



۲

تکمیل جدول (هر مورد ۰/۵ نمره)

ج

۱۷

ردیف	توضیح	پاسخ
۱	تطبيق مصوبات مجلس با قانون اساسی و اصول و احکام دین اسلام را برعهده دارد.	شورای نگهبان
۲	این موسسه در زمان وقوع حوادث طبیعی یا جنگ‌ها به کمک مردم می‌شتابد.	هلال احمر
۳	به تجهیزاتی گفته می‌شود که برای تبدیل منابع طبیعی به کالا مورد نیاز است.	سرمایه
۴	این موسسه برای جبران زیان‌های مالی و جانی به وجود آمده است.	بیمه

۱/۵

حدس بزن (هر مورد ۰/۵ نمره)

چ

۱۸

الف) بیمه
ب) منابع طبیعی
ج) همدلی

۲


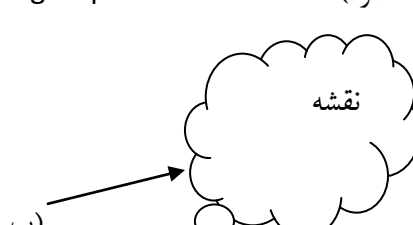


وصل کردنی: شماره مربوط به ردیف‌های الف، ب، ج و د را در ستون شماره‌ی مربوطه بنویسید. (هر مورد ۰/۲۵)

ح

۱۹

ردیف	مواد اولیه	شماره مربوطه	شماره	محصول
الف	نخ نایلونی	۲	۱	بیسکوئیت سازی
ب	خاک رُس	۴	۲	کارخانه نساجی
ج	آرد	۱	۳	قندسازی
د	قند	۳	۴	کاشی و سرامیک

ردیف	مسئولیت	شماره مربوطه	شماره	نوع مسئولیت
الف	رعایت نظم در کلاس	۲	۱	مسئولیت در برابر خداوند
ب	احترام به پدر و مادر	۴	۲	مسئولیت در برابر همکلاسی
ج	شکرگذاری نعمتهای الهی	۱	۳	مسئولیت در برابر محیط زیست
د	آسیب نرساندن به محیط زیست	۳	۴	مسئولیت در برابر خانواده

۱	<p>www.Heyvagroup.com</p> <p>چیستان(هر مورد ۰/۵ نمره)</p> <div style="display: flex; justify-content: space-around;"> <div style="text-align: center;">  <p>(الف)</p> </div> <div style="text-align: center;">  <p>(ب)</p> </div> </div>	خ ۲۰
۱	<p>تکمیل مُدل: روی مُدل کنار شماره‌ها کلمه‌ی دشت، کوهپایه، قلّه و رشته کوه را بنویسید.(هر مورد ۰/۲۵ نمره).</p> <p>(۱) رشته کوه (۲) قلّه (۳) کوهپایه (۴) دشت</p>	د ۲۱
۴	<p>سوالات تشریحی(۲۲ تا ۲۶)</p>	ذ
۰/۵	<p>الف) اجباری ب) اختیاری</p>	۲۲
۰/۷۵	<p>۳ مورد از موارد زیر صحیح است:</p> <p>(۱) نظافت کوچه و خیابان و جمع‌آوری و دفع زباله (۲) احداث، تعمیر یا آسفالت خیابانها، پلها، تونلها و پیاده‌روها (۳) نظارت بر ساخت و ساز (۴) ایجاد فئنگسرا و خانه‌های سلامت (۵) ایجاد فضای سبز و کاشتن درخت و نهال (۶) نظارت بر حمل و نقل عمومی(اتوبوس، تاکسی و مترو)</p>	۲۳
۰/۷۵	<p>کشاورزی، صنعت و خدمات</p>	۲۴
۱	<p>کره جغرافیایی نمونه کوچکی از کره زمین است که می‌توان شکل واقعی بخشهای مختلف سیاره زمین را روی آن مشاهده کرد.</p>	۲۵
۱	<p>هر یک از علامت‌های زیر نماد چه چیزی هستند؟ مقابل آن بنویسید.</p> <div style="display: flex; justify-content: space-around; align-items: center;"> <div style="border: 1px solid black; padding: 5px;"> <p>علامت ملی استاندارد</p> </div> <div style="text-align: center;">  </div> <div style="border: 1px solid black; padding: 5px;"> <p>جمعیت هلال احمر</p> </div> <div style="text-align: center;">  </div> </div>	۲۶
<p>پیروز و سربلند باشید! «کریمی»</p>		