

# هیاوا؛ تخصصی ترین سایت مشاوره کشور

بنام هستی بخش

اداره آموزش و پرورش

ناحیه ۴ اهواز

دبیرستان شاهد طلوع بهمن

|              |                |                  |                  |
|--------------|----------------|------------------|------------------|
| مهر آموزشگاه | نمره به عدد :  | زمان امتحان      | مشخصات دانش آموز |
|              | نمره به حروف : | تاریخ : ۹۵/۰۳/۰۱ | شماره کارت :     |
|              | نام دبیر :     | مدت : ۶۰ دقیقه   | نام :            |
|              | امضاء دبیر :   | پایه : هفتم      | نام خانوادگی :   |

|      |        |      |
|------|--------|------|
| بارم | سؤالات | ردیف |
|------|--------|------|

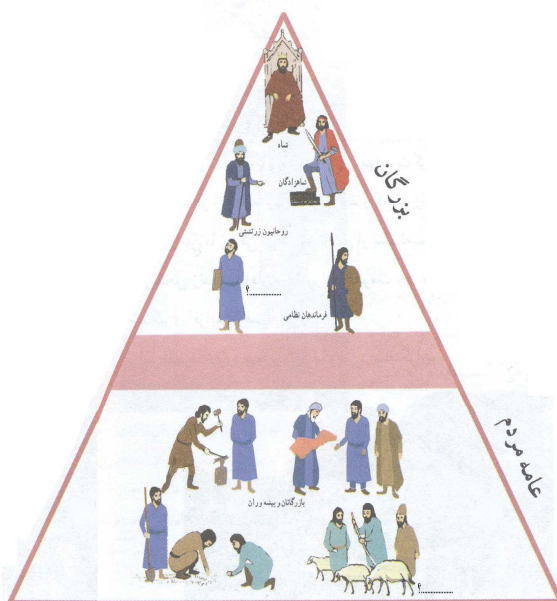
|  |                  |  |
|--|------------------|--|
|  | سوالات بخش تاریخ |  |
|--|------------------|--|

|                      |  |  |
|----------------------|--|--|
| ۰/۲۵<br>۰/۲۵<br>۰/۲۵ | مالیات<br>کشاورزی<br>چغازنبیل<br>تجارت | الف<br>هر عبارت را به پاسخ آن وصل نمایید.<br>(۱) مهمترین اثر به جامانده از تمدن ایلام است .<br>(۲) منبع اصلی در آمد حکومت های ایران باستان بود .<br>(۳) مهمترین پیشه و وسیله معیشت در ایران باستان بود . |
|----------------------|--|--|

|                      |   |  |
|----------------------|---|--|
| ۰/۲۵<br>۰/۲۵<br>۰/۲۵ | <input type="radio"/> (د) خشایار شاه<br><input type="radio"/> (ج) یزگرد سوم<br><input type="radio"/> (ب) کوروش<br><input type="radio"/> (الف) داریوش اول<br><input type="radio"/> (د) تیرداد<br><input type="radio"/> (ج) مهرداد دوم<br><input type="radio"/> (ب) مهرداد اول<br><input type="radio"/> (الف) فرهاد دوم<br><input type="radio"/> (د) هخامنشیان<br><input type="radio"/> (ج) مادها<br><input type="radio"/> (ب) ساسانیان<br><input type="radio"/> (الف) اشکانیان | ب<br>درست ترین گزینه را با (x) مشخص کنید .<br>(۱) بنیانگذار سلسه هخامنشیان که بود ؟<br>(۲) کدام فرمانروای اشکانی ، حکومت اشکانی را به امپراتوری قدرتمندی تبدیل کرد ؟<br>(۳) چه کسانی در تاریخ جهان به جنگاوران مشهور بودند ؟ |
|----------------------|---|--|

|                              |  |   |
|------------------------------|--|---|
| ۰/۲۵<br>۰/۲۵<br>۰/۲۵<br>۰/۲۵ |  | پ<br>به جای نقطه چین از کلمه های مناسب استفاده کنید .<br>(۱) انسانها برای رسیدگی به کارها و نوشتن و محاسبه داد و ستدهایشان ..... را اختراع کردند .<br>(۲) به کسانی که درباره زندگی انسانها و رویدادهایی که در گذشته اتفاق افتاده مطالعه می کنند ..... می گویند .<br>(۳) در زمان هخامنشیان برای اولین بار به فرمان داریوش اول سکه ای زرین بنام ..... ضرب شد .<br>(۴) ارزشمندترین و پرسودترین کالای تجاری ایران باستان ..... بود که از چین به ایران صادر شد . |
|------------------------------|--|---|

|     |  |   |
|-----|--|---|
| ۰/۵ |  | ت<br>در نمودار مقابل به جای علامت سوال ( ؟ ) پاسخ خواسته شده را بنویسید . |
|-----|--|---|



|      |   |   |
|------|---|---|
| ۰/۵  | <p>مفهوم تصویر مقابل را بیان کنید .</p>  |   |
| ۰/۵  | <p>پاسخ کوتاه دهید .</p>  | ث |
| ۰/۵  | <p>( ۱ ) چرا شهر سوخته به این نام شهرت دارد ؟</p>   |   |
| ۰/۵  | <p>( ۲ ) داریوش اول برای اداره بهتر کشور را به چند قسمت تقسیم کرد و هر قسمت را چه می گفتند ؟</p>                          |   |
| ۰/۵  | <p>( ۳ ) از نظر هرودوت ایرانیان چه چیزهایی به فرزندان خود می آموختند ؟</p>  |   |
| ۰/۵  | <p>( ۴ ) دو مورد از ابتکارات جنگی ایرانیان باستان را بیان کنید .</p>  |   |
| ۰/۷۵ | <p>( ۵ ) مورخان در مطالعات خود از چه منابعی استفاده می کنند ؟</p>   |   |
| ۰/۷۵ | <p>( ۶ ) چه عواملی موجب رونق تجارت در دوره هخامنشی شده است ؟</p>  |   |
| ۱    | <p>( ۷ ) چرا از حکومت هخامنشی بعنوان نخستین امپراتوری یاد می کنند ؟</p>   |   |
| ۱    | <p>( ۸ ) در دوره ساسانیان طبقه بزرگان نسبت به عامه مردم چه امتیازاتی داشتند مقایسه کنید .</p>                             |   |



|   |  |
|---|--|
| ۱ | ۹) در ایران باستان پوشاک مردم شامل چه چیزهایی بود؟           |
| ۱ | ۱۰) ایرانیان باستان در زمینه پزشکی چه پیشرفتهایی کرده بودند؟ |

**سوالات بخش جغرافی**

الف

|     |  |
|-----|--|
| ۰/۵ | پاسخ کوتاه دهید .<br>۱) وقتی رشد جمعیت منفی می شود کشورها با چه مشکلاتی روبرو می شوند؟ |
| ۰/۵ | ۲) پیشنهادهای خود را درباره مصرف صحیح آب را بیان کنید .(۲مورد)                         |
| ۰/۵ | ۳) انواع گردشگری را بیان کنید .  |
| ۰/۵ | ۴) مراکز مهم گردشگری ایران در زمستان را نام ببرید .                                    |
| ۱   | ۵) در پارک های ملی چه مقرراتی حاکم است؟  |
| ۱   | ۶) گردشگری چه اهمیتی برای کشورها دارد؟   |
| ۱   | ۷) چرا منطقه شهری تهران پرجمعیت ترین و پرتراکم ترین ناحیه کشور می باشد؟                |
| ۱   | ۸) به جای علامت سوال ( ؟ ) بر روی نقشه پاسخ دهید .                                     |



| سوالات بخش مدنی |  |   |
|-----------------|--|---|
| ۱               | شما بعنوان دانش آموز در مدرسه چه حقوق و مسئولیت هایی دارید؟<br>حقوق: .....<br>مسئولیت ها: .....  | ۱ |
| ۱               | این علامت ها که بر روی برچسب بسته بندی کالاها وجود دارد ، نشانه چیست ؟<br> .....(۱)<br> .....(۲) | ۲ |
| ۱               | چرا بیمه بوجود آمده است ؟  | ۳ |